



SUKU DINAS PENDIDIKAN WILAYAH II JAKARTA BARAT  
SATUAN PELAKSANA PENDIDIKAN KECAMATAN PALMERAH  
Penilaian Akhir Semester ( PAS ) I Ganjil  
KURIKULUM 2013  
Tahun Pelajaran 2020-2021



Nama : \_\_\_\_\_  
Kelas / Semester : II / 1  
Tema : 2.  
Termin : 2  
Tanggal : .....


**MATEMATIKA**

I. Berilah tanda silang (x) pada huruf A, B, atau C pada jawaban yang tepat !


**KD. 3.9**

1. Benda berikut yang memiliki 3 sisi, sudut dan 3 titik sudut adalah ...

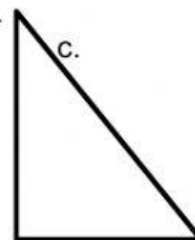
a.



b.




c.



2. Salah satu ciri – ciri kubus adalah ...

- a. memiliki 8 rusuk
- b. semua rusuk sama panjang
- c. memiliki 6 titik rusuk

3.



- Gambar di samping memiliki ciri
- a. ke empat sisinya sama panjang
  - b. dua pasang sisi sama panjang
  - c. ke empat sisi panjang – panjang

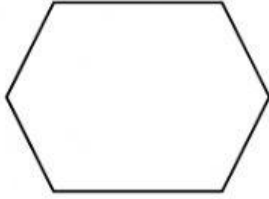
4. Aku adalah sebuah bangun datar yang memiliki 3 sisi, 3 titik sudut, dan 3 sudut. Aku adalah bangun ....

- a. persegi
- b. segitiga
- c. persegi panjang

5. Contoh benda yang berbentuk kubus adalah ....

- a. rubik
- b. bola
- c. kaleng susu

6.



Perhatikan bangun datar di samping !

Bangun datar di samping memiliki .... sisi, .... sudut, dan .... titik sudut.

a. 4, 4, 4

b. 5, 5, 5

c. 6, 6, 6

**II. Isilah titik-titik di bawah ini dengan jawaban yang singkat dan tepat !**

**KD. 3.9**

7. Bangun datar yang memiliki 5 sudut dan 5 sisi adalah bangun .....

8. Benda di sekitar kita yang menyerupai benda balok adalah .....