












Arrastra el nombre de cada ordinal en el lugar que le corresponda

| | | | | |
|---|---|---|--|---|
| 10º | 12º | 14º | 16º | 18º |
|  |  |  |  |  |
| 11º | 13º | 15º | 17º | 19º |
|  |  |  |  |  |

| | | | | | |
|-------------|---------------|----------|---------------|---------------|--------------|
| Vigésimo | Decimocuarto | Undécimo | Decimosexto | Decimoquinto | Decimonoveno |
| Decimoctavo | Decimosegundo | Décimo | Decimotercero | Decimoséptimo | |

 20º

Descubre el patrón

| | | | | |
|-----|-----|----|--|----|
| 40 | | 50 | | |
| 110 | | 90 | | 70 |
| 500 | 600 | | | |

Resuelve las operaciones de sumas y restas.

| | | | |
|-------------|--------------|-------------|--------------|
| 123 | 587 | 734 | 489 |
| <u>+356</u> | <u>- 364</u> | <u>+243</u> | <u>- 346</u> |

Compara las cantidades arrastrando los signos de mayor, menor o igual.



| | | | | | | | | | |
|----|----|-----|-----|-----|-----|-----|-----|-----|-----|
| 78 | 98 | 450 | 600 | 345 | 100 | 200 | 200 | 168 | 681 |
|----|----|-----|-----|-----|-----|-----|-----|-----|-----|

Completa la tabla

| Numero | C | D | U | Descomposición | En palabras |
|--------|---|---|---|----------------|-----------------------|
| 135 | | | | 100+30+5 | |
| 423 | | | | | |
| 357 | | | | | |
| 523 | | | | | Quinientos veintitrés |
| 97 | 0 | 9 | 7 | | Noventa y siete |


En el número 325

El dígito que ocupa el lugar de las centenas es _____

El dígito que ocupa el lugar de las decenas es _____

El dígito que ocupa el lugar de las unidades es _____

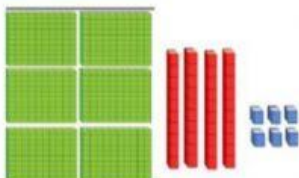
Une cada bloque con la cantidad que representa



646



134



224



448