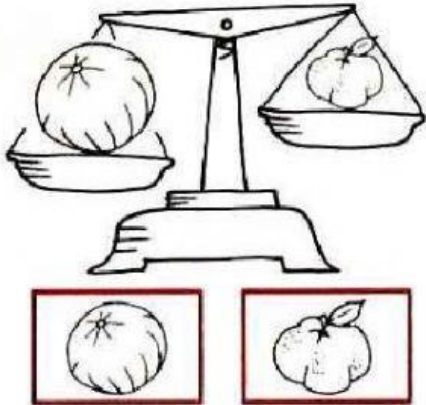
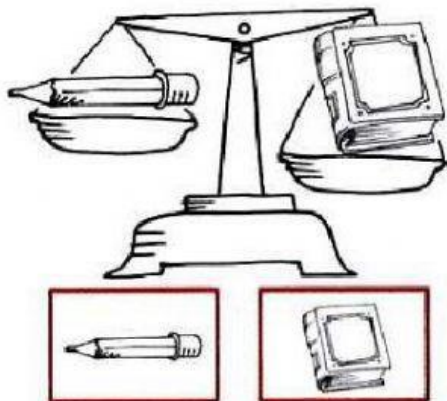


SEGUIMOS COMPARANDO PESOS


❖ OBSERVÁ LAS BALANZAS, ¿CUÁL ES EL OBJETO DE MAYOR PESO?



EL OBJETO DE MAYOR PESO ES



EL OBJETO DE MAYOR PESO ES



EL OBJETO DE MAYOR PESO ES

❖ OBSERVÁ LAS BALANZAS Y COLOCA CADA OBJETO SEGÚN SU PESO. COMPLETA LA ORACIÓN.



PESA MÁS QUE _____



PESA MÁS QUE _____

