

EQUIVALENCIAS Y CANJES CON MONEDAS Y BILLETES HASTA 100






1. Lee las cantidades


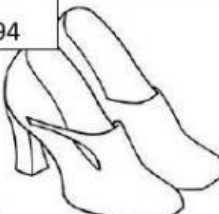


- a. S/. 15.30 _____
b. S/. 87.50 _____
c. S/. 31.60 _____
d. S/. 56.10 _____

2. Tacha las monedas y billetes exactos que necesita cada niño para realizar su compra.

<p>Voy a comprar una Muñeca</p>	<p>S/.19</p>	
<p>Voy a comprar el tren</p>	<p>S/.48</p>	
<p>Voy a comprar el avión</p>	<p>S/.31</p>	
<p>Voy a comprar un televisor</p>	<p>S/.342</p>	

<p>Voy a comprar unos patines</p> 	 <p>S/.197</p>	
---	---	--

3. Observa los precios de las prendas de vestir y resuelve

<p>4.  S/. 25</p>	<p>5.  S/. 94</p>	<p>6.  S/. 73</p>	<p> S/. 38</p>
--	--	---	---

a. ¿Cuánto pagará Carmen, si compra 2 polos y dos carteras?

Solución:

Rpta: _____

b. ¿Cuántas faldas podrás comprar con 3 billetes de S/. 50 ?

Solución:




Rpta: _____

c. ¿Cuánto pagaré por la compra de dos pares de zapatos y una cartera?

Solución:

Rpta: _____

4. Completa : para que sea equivalente a S/. 100

S/. 50	S/. 20	S/. 10			
--------	--------	--------	---	---	--