


NOME: _____

DATA: _____

ADIVINHAÇÃO DAS FIGURAS GEOMÉTRICAS

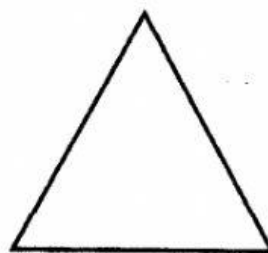
QUEM SOU EU?

⇒ **TENHO QUATRO LADOS IGUAIS.
SOU SEU AMIGO.
PODE-SE FAZER VÁRIOS DESENHOS
COMIGO.**
SOU O




QUADRADO

⇒ **SOU LEGAL PARA BRINCAR.
TENHO TRÊS LADOS.
VOCÊ QUER ME DESENHAR?**
SOU O




TRIÂNGULO

⇒ **SOU REDONDO COMO BOLA.
NÃO ME CONFUNDA COM MOLA**
SOU O



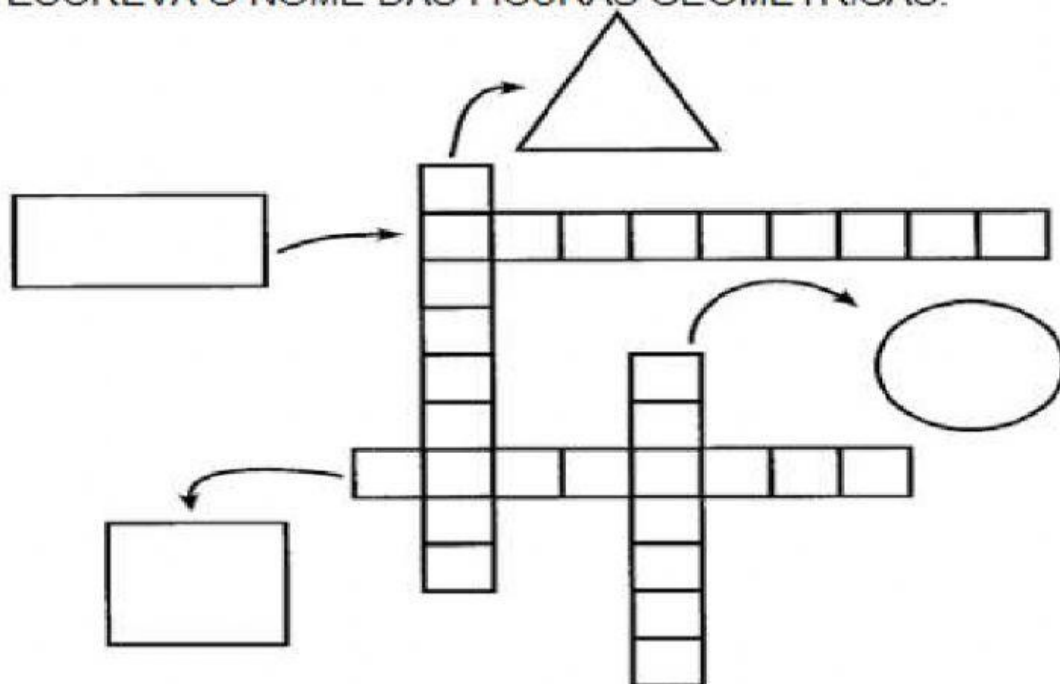
CÍRCULO

⇒ **SOU ASSIM:
DOIS LADOS PEQUENOS,
E DOIS MAIORES.
FAÇA UM X EM MIM:**



RETÂNGULO

ESCREVA O NOME DAS FIGURAS GEOMÉTRICAS:

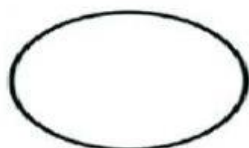


ESCREVA ABAIXO DICAS QUE AJUDARIAM SEUS AMIGOS A DESCOBRIR AS SEGUINTE FIGURAS:

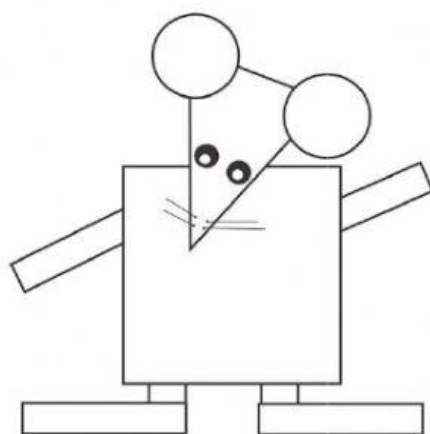








FORMAS GEOMÉTRICAS



1- OBSERVE A FIGURA E RESPONDA:

QUAL O NÚMERO DE CÍRCULOS?

QUAL O NÚMERO DE TRIÂNGULOS?

QUAL O NÚMERO DE QUADRADOS?

QUAL O NÚMERO DE RETÂNGULOS?




2) Observe cada figura e coloque as quantidades :



..... quadrados

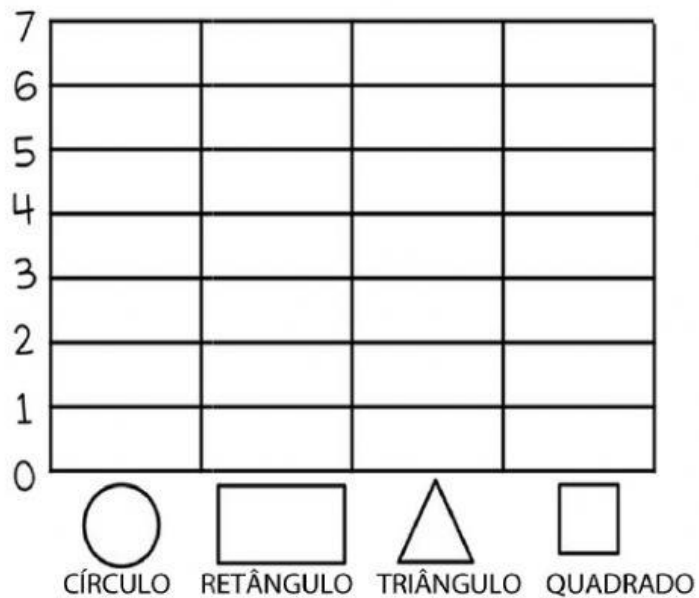
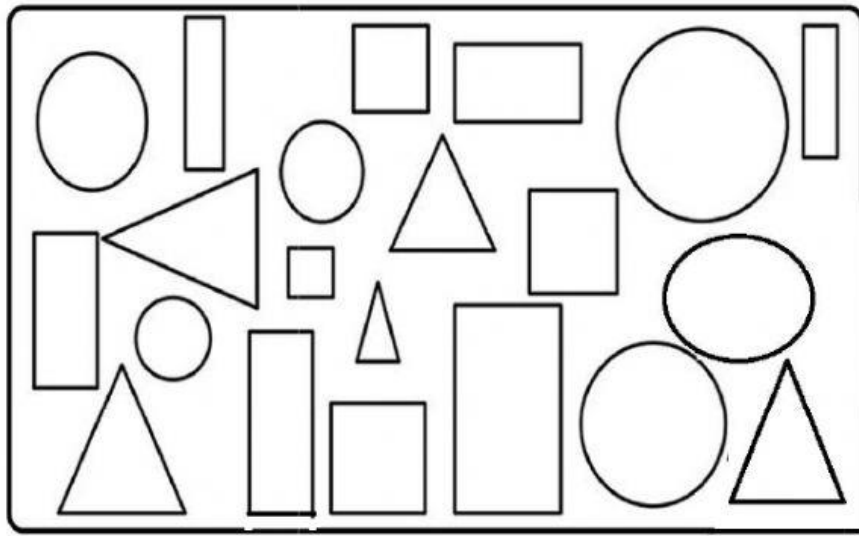


..... círculos



..... retângulos

1- CONTE AS FORMAS GEOMÉTRICAS E MARQUE NO GRÁFICO DE ACORDO COM A QUANTIDADE EQUIVALENTE PARA CADA UMA:



Ligue os objetos às suas formas correspondentes:

