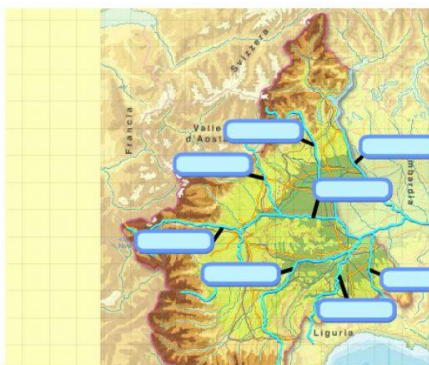


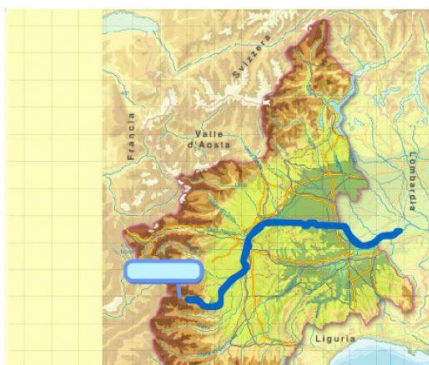
Trascina al posto giusto i nomi delle regioni e degli stati esteri che confinano con il Piemonte.

- FRANCIA
- LOMBARDIA
- SVIZZERA
- VALLE D'AOSTA
- LIGURIA



Colloca sulla carta i nomi dei seguenti fiumi.

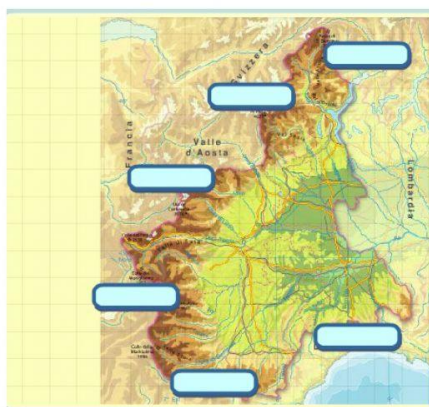
- TANARO
- TICINO
- BORMIDA
- DORA RIPARIA
- SCRIVIA
- DORA BALTEA
- PO
- SESLIA



Trascina al posto giusto il nome corretto scegliendolo tra quelli in elenco.

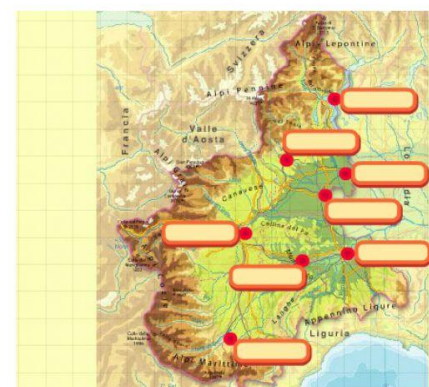
*Il Po nasce sul...*

- MONTE BIANCO
- PASSO DI S. GIACOMO
- MONVISO
- COLLE D'ALTO MARBOLENA



Trascina al posto giusto i nomi dei gruppi montuosi che circondano il Piemonte.

- APPENNINO LIGURE
- ALPI MARITTIME
- ALPI GRAIE
- ALPI COZIE
- ALPI PENNINE
- ALPI LEPONTINE



Trascina sulla carta i nomi dei seguenti capoluoghi del Piemonte.

- TORINO
- VERCELLI
- BIELLA
- CUNEO
- ALESSANDRIA
- ASTI
- VERBANIA
- NOVARA