
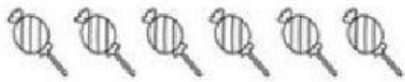


CALCULÁ LA MITAD Y UNÍ CON LA DIVISIÓN QUE CORRESPONDA:




LA MITAD DE 8 ES...

$$6 : 2 = 3$$



LA MITAD DE 6 ES...

$$10 : 2 = 5$$



LA MITAD DE 10 ES...

$$4 : 2 = 2$$




LA MITAD DE 4 ES...

$$8 : 2 = 4$$



LA MITAD DE 2 ES...

$$12 : 2 = 6$$



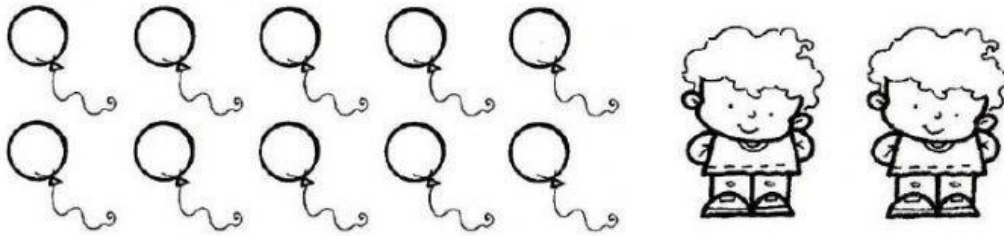
LA MITAD DE 12 ES...

$$2 : 2 = 1$$

LA SEÑO QUIERE REPARTIR ESTOS GLOBOS ENTRE 2 NIÑOS Y QUE CADA UNO TENGA LA MISMA CANTIDAD.

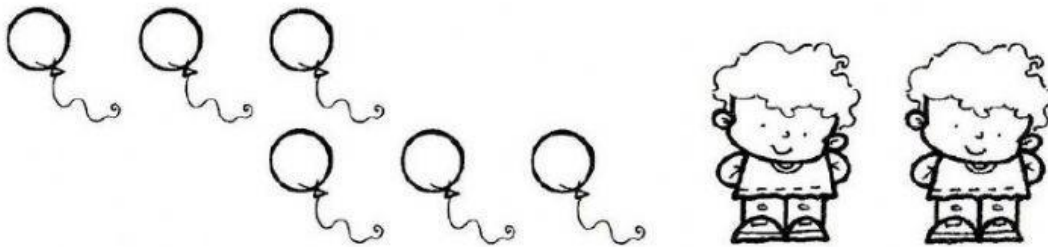
⇒ ¿SOBRA ALGÚN GLOBO? ELIGE LA OPCIÓN CORRECTA:

1)



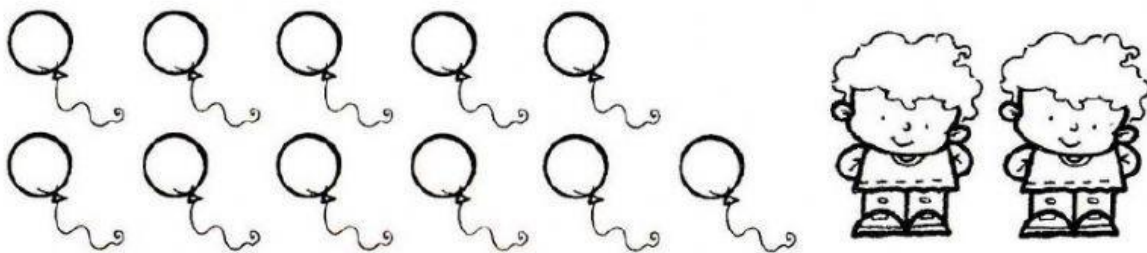
¿Te sobra algún globo? SÍ NO

2)



¿Te sobra algún globo? SÍ NO

3)



¿Te sobra algún globo? SÍ NO