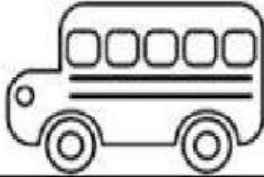





NOME:

PROFESSORA: ADRIANA LOPES

TURMA: 201

RESOLVENDO PROBLEMAS

	CÁLCULOS
<p>O ônibus da escola de Mariana tem capacidade para 30 alunos. Hoje apenas 22 alunos foram. Quantos alunos faltaram?</p> 	<p>FALTARAM</p> <p>HOJE <input type="text"/></p> <p>ALUNOS.</p>
<p>Na casa de Mateus têm 10 laranjeiras, 1 mangueira, 2 limoeiros, 12 aceroleiras e 2 bananeiras. Quantas árvores tem na casa de Mateus, no total?</p> 	<p>HÁ NA CASA DE MATEUS</p> <p><input type="text"/></p> <p>ÁRVORES.</p>
<p>Junior tem uma coleção de carrinhos de brinquedos com 28 carrinhos. Ele quer dividi-los igualmente em quatro prateleiras. Quantos carrinhos cada prateleira terá?</p> 	<p>CADA PRATELEIRA TERÁ <input type="text"/></p> <p>CARRINHOS.</p>
<p>Se a previsão é de que o dia amanheça em 20°C e passe para 33°C ao longo do dia. Quantos graus irá subir?</p> 	<p>IRÁ SUBIR</p> <p><input type="text"/> GRAUS.</p>

