

## Resolvemos problemas de equilibrio con la balanza



- 1 María juega con la balanza y con los cubitos del material base diez. Ella observa lo que ocurre con los brazos de la balanza cuando agrega o quita cubitos y hace algunas afirmaciones.



- a. ¿Cuál de estas afirmaciones expresa correctamente lo que muestra la balanza de María? Pinta tu respuesta.

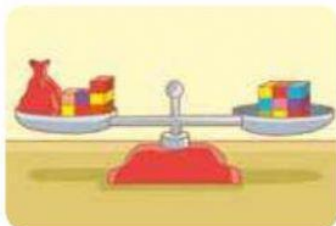
La bolsa azul pesa igual que 6 cubitos.

La bolsa azul y 2 cubitos pesan igual que 6 cubitos.

La bolsa azul y 2 cubitos pesan igual que 5 cubitos.



- 2 Relaciona y une con una línea cada balanza con la expresión que le corresponde.

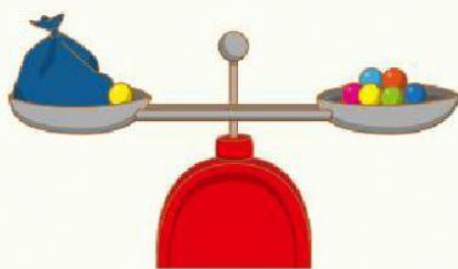




La bolsa roja y 3 cubitos pesan igual que 9 cubitos.

La bolsa roja pesa igual que 9 cubitos.

7 cubitos y una bolsa roja pesan igual que 9 cubitos.

Completen las expresiones.



- La  y  bolita pesan igual que  bolitas.
-  +  =