

## UNIDAD EDUCATIVA "SAN ANDRÉS"

### DATOS INFORMATIVOS:

ACTIVIDAD DE: FÍSICA

CURSO: PRIMERO BGU "A" Y "B"

PROFESOR: DR. ALCIDES LÓPEZ MGS.

TEMA: MOVIMIENTO VERTICAL DE LOS CUERPOS

AÑO LECTIVO: 2020-2021

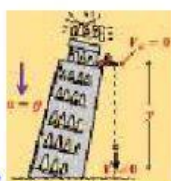
FECHA: 01-12-2020

1) Seleccione una V, si la expresión es verdadera y una F si es falsa:

a) En caída libre la velocidad inicial es mayor que cero.....( )




b) Lo de  ilustra la caída libre de la pelota.....( )




c) Lo de  ilustra un lanzamiento hacia abajo.....( )

d) En un lanzamiento vertical hacia arriba la velocidad inicial es mayor que cero.....( ).

2) Complete de acuerdo al dibujo:

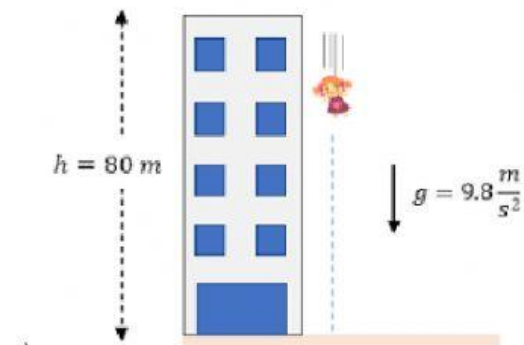


a) Lo de la foto  ilustra: .....



b) Lo de la foto  ilustra:.....

3) Unir con líneas según corresponda;




a)



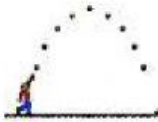
no es movimiento vertical

b)



lanzamiento vertical hacia abajo

c)



caída libre

d)



lanzamiento vertical hacia arriba


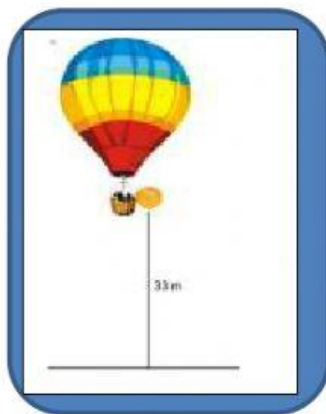
4) Pregunta de selección múltiple. Aclaración: Seleccione la respuesta que usted considere la correcta.



Lo de la foto es:

- Lanzamiento vertical hacia abajo
- Lanzamiento vertical hacia arriba
- Caída libre
- Lanzamiento horizontal
- Ninguna de las anteriores.

5) Mover la solución respectiva:



Lanzamiento vertical hacia arriba

Caída libre

Lanzamiento vertical hacia abajo