



Sucesión de Figuras

Escribe la respuesta correcta en número dentro del espacio que se encuentra después de la pregunta.



Figura 1




Figura 2




Figura 3




Figura 4

¿Cuántos cuadros tendrá la figura 5?
¿Cuál será la figura con 43 cuadritos?

¿Cuántos cuadros tendrá la figura 10?
¿Cuál es la regla general?



Figura 1



Figura 2



Figura 3



Figura 4




Figura 5

¿Cuántos círculos tiene la figura 5?
¿Cuál será la figura con 80 círculos?

¿Cuántos círculos tendrá la figura 10?
¿Cuál es la regla general?



Figura 1



Figura 2



Figura 3

¿Cuántos triángulos forman la figura 2?
¿Cuántos triángulos tendrá la figura 4?

¿Cuántos triángulos forman la figura 3?
¿Qué número de figura tendrá 64 triángulos?