

التاريخ:

الصف: الاول




اسم الطالبة / .....

		<b>1</b>	ما الشيء الذي لا يتحرك من تلقاء نفسه؟
1			
		A	
		B	
		C	

		<b>2</b>	ما الشيء يتحرك من تلقاء نفسه؟
1			
		A	
		B	
		C	

		<b>3</b>	كيف يتحرك القطار؟
1			
	من تلقاء نفسه.	A	
	بالهواء.	B	
	بالمحرك.	C	

		كيف يتحرك الرجل في الصورة؟	4
1			
		يقفز	A
		يركض	B
		يمشي	C

		ما الصورة التي تعبر عن المسار المستقيم؟	5
1			
		A	
		B	
		C	

		ضع إشارة ✓ أمام العبارة الصحيحة وإشارة ✗ أمام العبارة الخاطئة فيما يلي:
4		
	1.	الحركة هي الانتقال من مكان إلى آخر. ( )
	2.	تتحرك جميع الأشياء بنفس طريقة الحركة. ( )
	3.	عند ركل الكرة فإنها تتحرك. ( )
	4.	تساعد العجلات في تحريك الأشياء الثقيلة. ( )

		أجب عن السؤال التالي:
1		كيف تتحرك الأسماك؟
		.....