
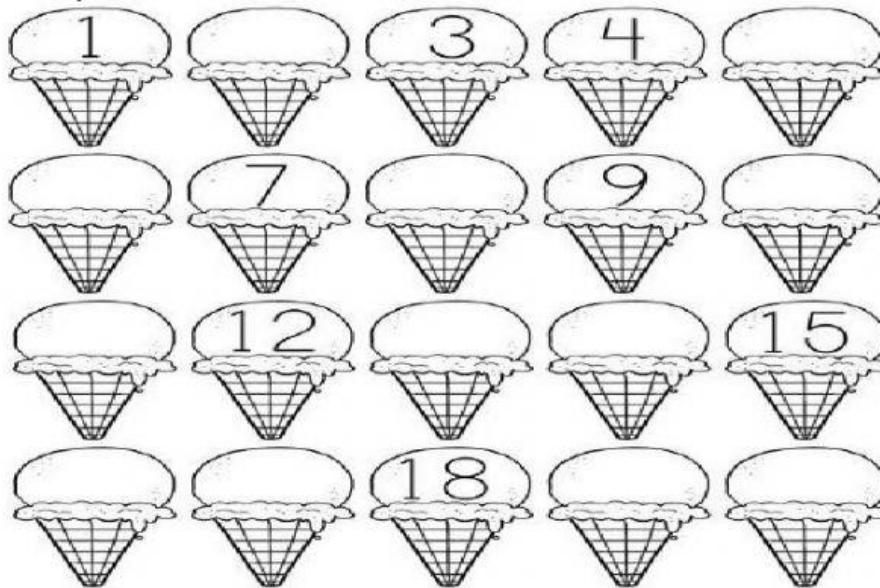


Ejercicios de seriación numérica.

✚ Observa y escribe el número que falta en cada carro.



✚ Arrastra los números que faltan al lugar que corresponda.



2	5	6	8	10	11
13	14	16	17	19	20

Ejercicios de seriación por figura y color.

















Observa la secuencia y complétala con las figuras de color.

Completa la secuencia con la figura que corresponda.

- 1.
- 2.
- 3.
- 4.
- 5.
- 6.
- 7.

Ejercicios de antecesor y sucesor.

✚ Escribe el número que va antes y el número que va después.

	← 7 →			← 9 →	
	← 8 →			← 4 →	
	← 5 →			← 2 →	
	← 3 →			← 6 →	

✚ Escribe en antecesor y sucesor de cada número.

<input type="text"/>	7	<input type="text"/>	<input type="text"/>	3	<input type="text"/>	<input type="text"/>	8	<input type="text"/>	<input type="text"/>	5	<input type="text"/>
<input type="text"/>	1	<input type="text"/>	<input type="text"/>	2	<input type="text"/>	<input type="text"/>	6	<input type="text"/>	<input type="text"/>	4	<input type="text"/>
<input type="text"/>	9	<input type="text"/>	<input type="text"/>	14	<input type="text"/>	<input type="text"/>	10	<input type="text"/>	<input type="text"/>	16	<input type="text"/>
<input type="text"/>	12	<input type="text"/>	<input type="text"/>	17	<input type="text"/>	<input type="text"/>	13	<input type="text"/>	<input type="text"/>	18	<input type="text"/>