

Programa Formativo de Cualificación Básica

REPASO TEMA 2

CIENCIAS NATURALES

1º Completa las frases con las siguientes palabras:

Tierra

Sol

rotación

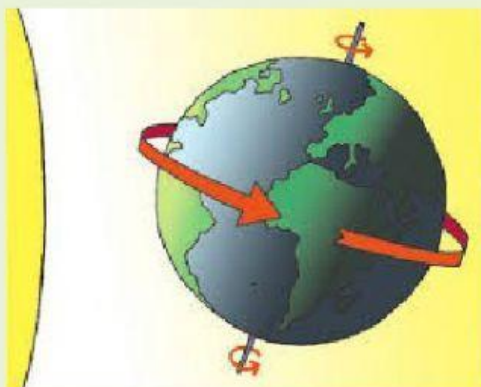
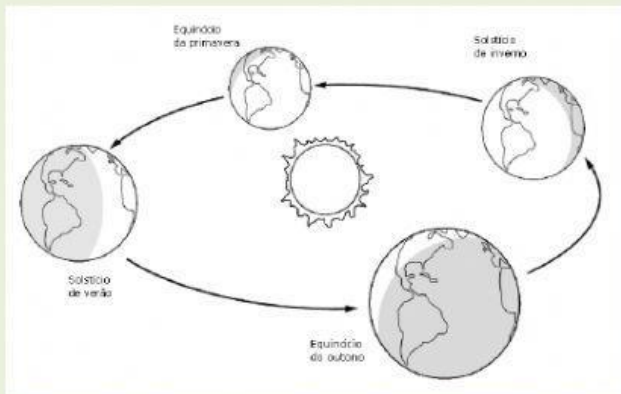
traslación

El movimiento que realiza la _____ alrededor del _____
se llama _____.

2º Coloca el nombre de cada movimiento debajo de su dibujo:

ROTACIÓN

TRASLACIÓN



3º Completa las siguientes frases:

La Tierra tarda _____ en dar una vuelta sobre sí misma, provocando el día y la noche.

La Tierra tarda _____ en dar una vuelta completa alrededor del Sol, provocando las estaciones del año.

4º Une con flechas el inicio de cada estación:

21 de marzo

Invierno

21 de diciembre

Otoño

21 de junio

Primavera

23 de septiembre

Verano


5º Completa con las siguientes palabras:

SUR

ESTE

NORTE

OESTE



6° Une con flechas:



CUARTO MENGUANTE

LUNA NUEVA

LUNA LLENA

CUARTO CRECIENTE