

Guía Evaluada de Matemáticas: Perímetros

Nombre:

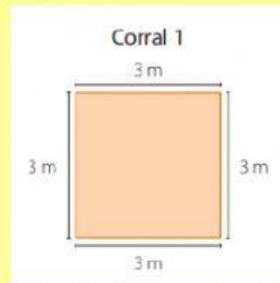
Instrucciones: Lee atentamente las preguntas y selecciona la respuesta correcta.

1. El perímetro es:

- A) La suma del contorno de todos los lados
- B) La resta del contorno de todos los lados
- C) La multiplicación del contorno de todos los lados

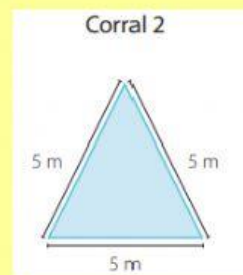
2. El perímetro de esta figura es:

- A) 3m
- B) 4m
- C) 12m
- D) 6m



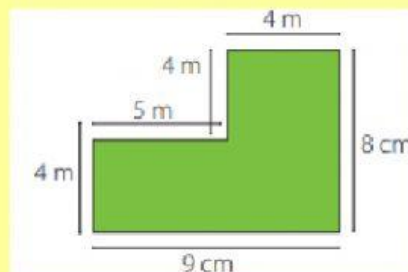
3. El perímetro de esta figura es:

- A) 3m
- B) 5m
- C) 10m
- D) 15m



4. ¿Cuál es el perímetro de esta figura?

- A) 6m
- B) 34m
- C) 29m



5. Si esta casa tiene una forma RECTANGULAR, ¿Cuál es su perímetro final?

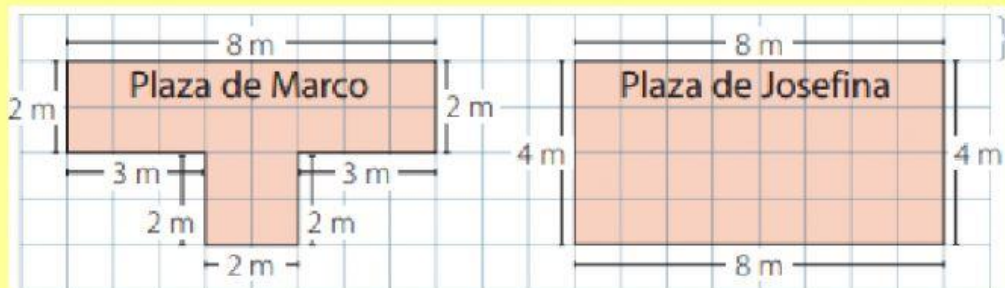
- A) 21m
- B) 42m
- C) 30m
- D) 12m



6. Si el lado de un cuadrado mide 4 cm, ¿Cuánto medirá todo su perímetro?

- A) 4cm
- B) 8cm
- C) 12cm
- D) 16cm

7. ¿Cuál de estos perímetros mide más?



- A) La plaza de Marco
- B) La plaza de Josefina
- C) Ambos miden lo mismo
- D) No se puede calcular