

TERCERO DE BÁSICA

REPASO MATEMÁTICA - PARCIAL 1

Nombre:

Fecha:

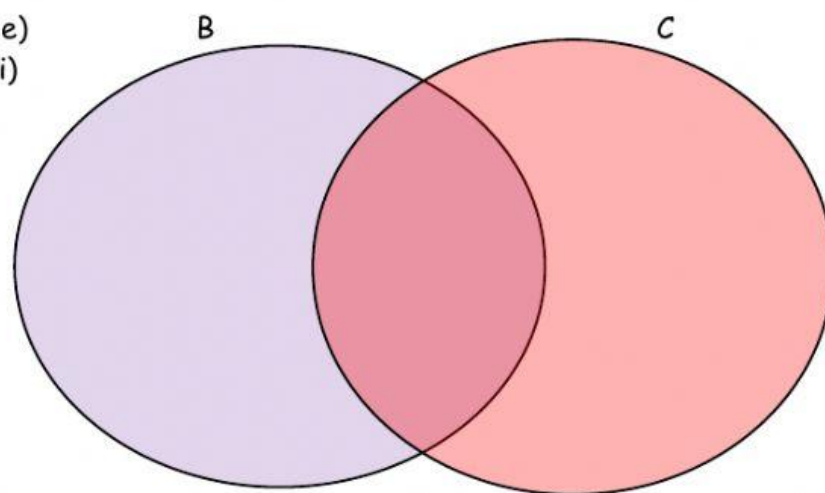
1.- Selecciona V o F según corresponda.

	No importa si un conjunto no tiene letra mayúscula.
	Las aves pertenecen al conjunto universo plantas.
	Conjunto es la reunión de elementos que comparten una misma característica.
	Subconjunto es un grupo de elementos que son parte de un conjunto universo.
	Los números ordinales indican orden o posición.
	Las medidas de tiempo miden las distancias.
	La recta tiene inicio y tiene fin
	El pictograma es una representación gráfica de una situación cotidiana.

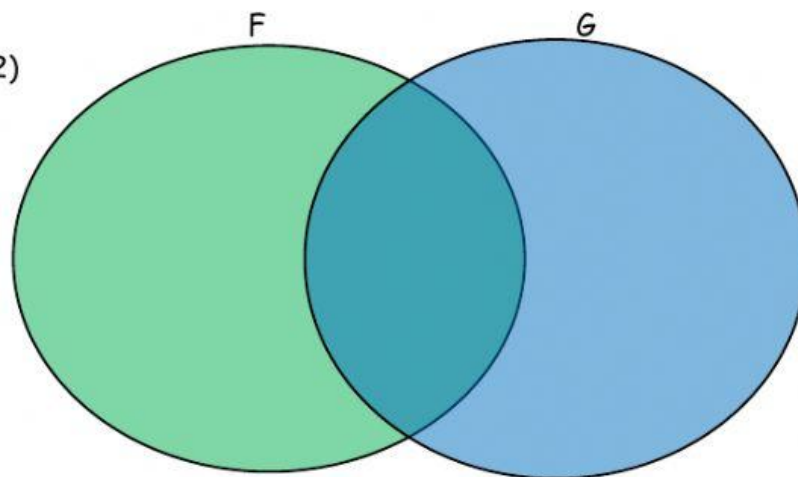
2.- Realiza la unión de los siguientes conjuntos en el Diagrama de Venn.

$B = \{a, b, c, d, e\}$

$C = \{e, f, g, h, i\}$



$F = (3, 6, 9, 12, 15)$
 $G = (2, 4, 6, 8, 10, 12)$



3.- Arrastra en orden de izquierda a derecha los elementos del conjunto Universo para formar dos subconjuntos.

U =



R = { }

A = ()

4.- Completa la tabla de los números ordinales.

No.	Se lee:	No.	Se lee:
15.º		29.º	
	Décimo segundo		Vigésimo primero
32.º		36.º	

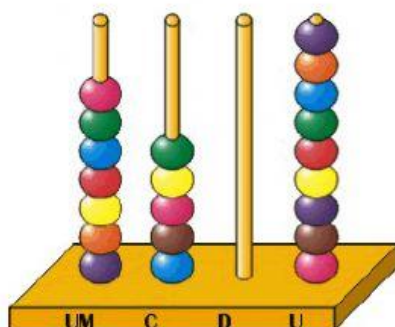
5.- Completa la tabla de descomposición numérica.

SISTEMA DE BASE 10				
CANTIDAD	UM	C	D	U
	1 000	100	10	1
5 404	5 000	400	0	4
1 900				
8 653				
2 019				

6.- Completa la tabla a continuación.

Um	C	D	U	Se lee:
	1	0	5	Ciento cinco.
				Trescientos ochenta.
7	7	0	7	
				Nueve mil cuatrocientos siete.


7.- Selecciona la respuesta correcta que se forma en el ábaco y base 10.



a) 9 057

b) 759

c) 7 509



a) 2 655

b) 5 562

c) 265

8.- Une con líneas según corresponda

Recta	
Semirrecta	$r \longleftrightarrow$
Segmento	$A \text{---} B$
Punto	$C \text{---} D$
Plano	

9. - Selecciona la respuesta correcta.

a. Un año tiene:

- 30 días
- 365 días
- 12 días

d. Una hora tiene:

- 60 minutos
- 60 segundos
- 60 días

b. Una semana tiene:

- 7 días
- 30 días
- 24 días

e. Un mes tiene:

- 30 días
- 7 días
- 365 días





c. Un día tiene:

- 12 horas
- 30 horas
- 24 horas

f. Un año tiene:

- 24 meses
- 12 meses
- 7 meses

10.- Lee la siguiente información y completa el pictograma tomando en cuenta la información en cada tema.

Tema: Carros de juguete			
Escala:  = tres carros		Darío	  
Niños	Cantidad		
Darío	9		
Edgar	9		
Alfonso	6		

Tema: Cuentos leídos			
Escala:  = cinco cuentos			
Niñas lectoras	Cantidad	Rocío	    
Carmen	10		
Rocío	25		
Isabel	15		



Realizado por
Lic. Jorge Vaca G.
2019