




UNIDAD EDUCATIVA "Margarita Amestoy de Sánchez"
3º AÑO DE EDUCACIÓN GENERAL BÁSICA A-B-C-D
MATEMÁTICA - Lección

Escribe si estos conjuntos están determinados por comprensión o extensión.

S



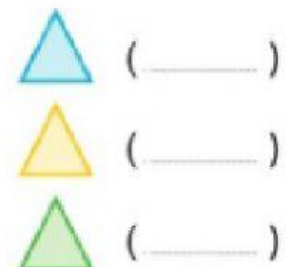
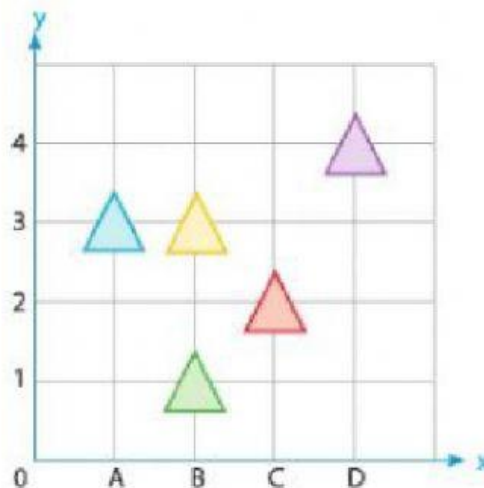
J



A = {Países de América del Sur}

B = {caramelos, chocolates, chupetes, chicles}

Escribe el par ordenado en el que se ubican los triángulos.



Aplica el operador en cada caso.

a)

$- 34$

455
339
966
284
173
658

305
250
624

$+ 12$

134
357
276
812
648
783

146
288
660

Resuelve las siguientes operaciones y realiza la comprobación.

COMPROBACIÓN:

	C	D	U
	6	2	0
-	4	6	7

	C	D	U

COMPROBACIÓN:

	C	D	U
	5	5	8
+	2	9	7

	C	D	U