







Quanti soldi hai?

Compila la tabella per contare gli euro.

EURO	CENTESIMI
	
<p>Sommo gli euro</p> <p>___ + ___ = ___</p>	<p>Sommo i centesimi</p> <p>___ + ___ = ___</p>
<p>Scrivo gli euro e i centesimi divisi dalla virgola</p> <p>€ __, __</p>	

EURO	CENTESIMI
	
<p>Sommo gli euro</p> <p>___ + ___ + ___ = ___</p>	<p>Sommo i centesimi</p> <p>___ + ___ + ___ = ___</p>
<p>Scrivo gli euro e i centesimi divisi dalla virgola</p> <p>€ __, __</p>	

EURO	CENTESIMI
	
<p>Sommo gli euro</p> <p>___ + ___ + ___ = ___</p>	<p>Sommo i centesimi</p> <p>___ + ___ + ___ = ___</p>
<p>Scrivo gli euro e i centesimi divisi dalla virgola</p> <p>€ __, __</p>	

EURO	CENTESIMI
	
<p>Sommo gli euro</p> <p>___ + ___ = ___</p>	<p>Sommo i centesimi</p> <p>___ + ___ = ___</p>
<p>Scrivo gli euro e i centesimi divisi dalla virgola</p> <p>€ __, __</p>	