



PAS MATEMATIKA TEMA 4 KELAS 3

Nama : _____

Kelas, No : _____ / _____

Hari, tanggal : _____



Nilai


TTOT



Matematika

KD : 3.7

1. Perhatikan gambar di bawah ini!



Pensil A



Pensil B

Pensil A lebih ... pensil B

- A. pendek
- B. panjang
- C. sama panjang

2. Alat ukur panjang yang digunakan oleh penjahit di bawah ini adalah

A.



B.



Meteran Saku

C.



Meteran Pita

3. Seorang tukang bangunan membutuhkan kayu untuk membuat meja sepanjang 2000 mm. Jika diubah dalam meter, maka kayu yang dibutuhkan tukang bangunan adalah
- A. 2 meter
 B. 20 meter
 C. 200 meter
4. Perhatikan gambar di bawah ini !



Buah pepaya daripada buah semangka

- A. lebih berat
 B. lebih ringan
 C. sama dengan
5. Perhatikan gambar di bawah ini !



Alat ukur berat disamping digunakan untuk menimbang

.....

- A. emas
 B. beras
 C. berat badan anak /dewasa
6. Ibu memiliki beras seberat 26 kg. jika beras tersebut ditimbang dengan satuan gram menjadi
- A. 260 gram
 B. 2600 gram
 C. 26.000 gram
7. Jam di bawah ini menunjukkan pukul


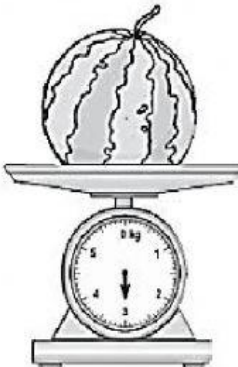


- A. 09.02
 B. 09.10
 C. 09.15

Jawablah pertanyaan di bawah ini dengan huruf kecil


8.  Alat ukur di samping menggunakan satuan panjang

9. Tiara membeli bahan kain sepanjang 500 cm. Panjang kain Tiara adalah meter.

10.  

Berdasarkan gambar di atas berat pasta gigi dengan semangka bila dibandingkan ,
maka berat pasta gigi lebih dari pada berat semangka.

11. Doni memetik buah mangga di depan rumahnya dan ditimbang beratnya 17 kg.
Lalu buah mangga itu diberikan kepada Meta 3 kg.
Sisa buah mangga Doni sekarang adalah kg.

12.  Jam di samping menunjukkan pukul

13. 120 menit = jam

14. Ibu memiliki gula merah sebanyak 15 kg. Ibu menggunakan 5 kg untuk membuat kue. Berapa **gram** sisa gula merah yang dimiliki ibu ?

15. Udin pergi ke sekolah dengan bersepeda. Jarak yang ditempuh Udin dari rumah ke sekolah 5 km. Setelah menempuh jarak 2 km dari rumahnya, ban sepeda Udin bocor. Akhirnya, Udin menuntun sepedanya sampai ke sekolah. Berapa **km** jarak yang ditempuh Udin menuntun sepeda sampai ke sekolah?