


Numele.....

Data.....

CALIFICATIV.....

### Evaluare inițială MEM – clasa I

1. Scrie numărul potrivit în căsuța de jos, după ce ai numărat:



2. Scrie vecinii numerelor:

\_\_\_ 7 \_\_\_







\_\_\_ 2 \_\_\_

\_\_\_ 5 \_\_\_

\_\_\_ 9 \_\_\_

\_\_\_ 1 \_\_\_

3. Broasca Ochi a pornit de pe piatra cu numărul 1 spre piatra cu numărul 10 sărind doar pe numerele impare. Colorează-le.



4. Compară numerele și pune în pătrățele semnele <, >, =

$4 \square 7,$

$7 \square 7,$

$8 \square 7,$

$0 \square 10,$

$9 \square 9$

5. Calculati

	3	+	1	=						9	-	1	=							
	2	+	2	=						8	-	1	=							
	6	+	1	=						7	-	3	=							
	4	+	3	=						6	-	2	=							