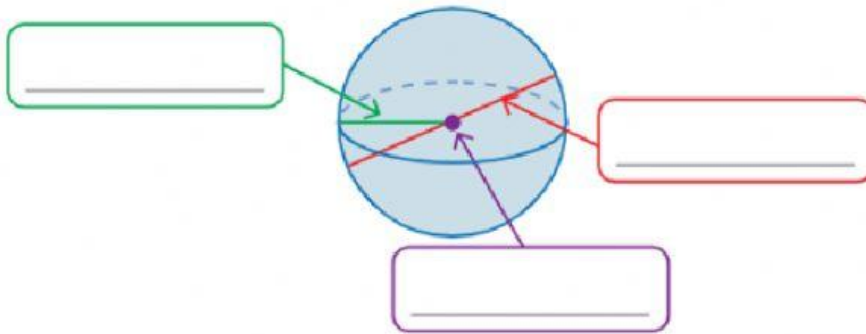


EL CUBO Y LA ESFERA


1. Complete con los nombres de las partes de la esfera.




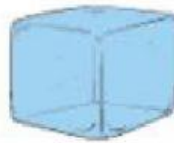
2. Escriba el nombre de 3 objetos que tengan forma de esfera.

Three empty green rectangular boxes for writing the names of three spherical objects.

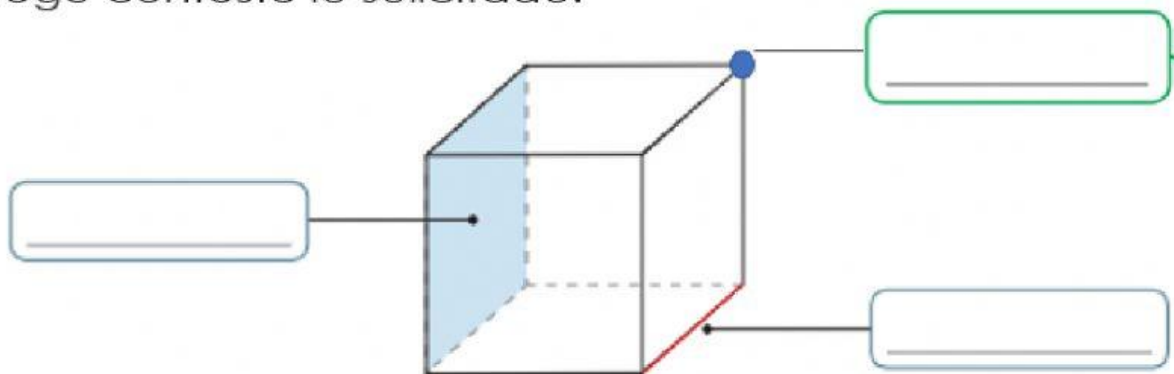
3. Señale los objetos que tienen forma de esfera.



4. Señale los objetos que tienen forma de esfera.



5. Complete con los nombres de las partes del cubo. Luego conteste lo solicitado.



Número de aristas _____

Numero de caras _____

Número de vértices _____

Las caras tienen forma de _____