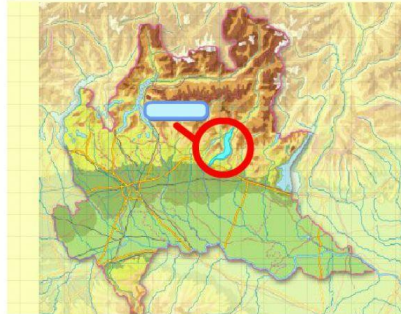


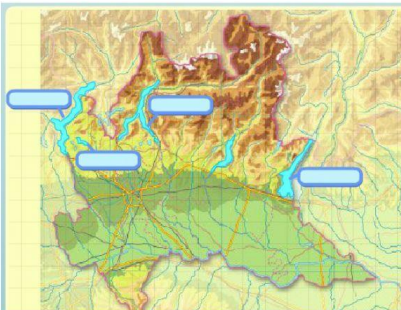
Trascina al posto giusto i nomi delle regioni e degli stati esteri che confinano con la Lombardia.

- EMILIA ROMAGNA
- TRENTINO ALTO ADIGE
- SVIZZERA
- VENETO
- PIEMONTE



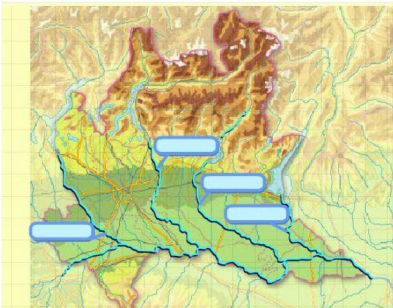
Trascina il nome corretto del lago evidenziato sulla carta.

- LAGO DI LOEGANO
- LAGO D'ISEO
- LAGO DI COMO
- LAGO D'ORNO



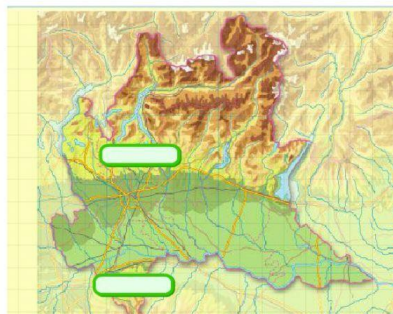
Trascina i nomi dei laghi al posto giusto.

- LAGO DI GARDIA
- LAGO MAGGIORE
- LAGO DI COMO
- LAGO DI VARESE



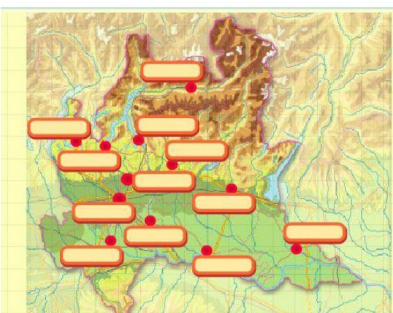
Trascina sulla carta i nomi dei seguenti affluenti del Po.

- TICINO
- MENCIO
- ADDA
- OLIO



Trascina al posto giusto i nomi corretti scegliendoli tra quelli proposti.
Quali sono i rilievi collinari piú importanti della Lombardia?

- AGRO PONTINO
- BRIANZA
- LE MURSIE
- OLTREPO PAVESE
- POLESINE



Trascina sulla carta i nomi dei seguenti capoluoghi della Lombardia.

- MILANO
- LODI
- CREMONA
- LECCO
- BRESCIA
- BERGAMO
- MANTOVA
- MONZA
- PAVIA
- VARESE
- SONDRIO
- COMO