

Numere de la 0 la 100

1. Descompune numerele în zeci și unități.

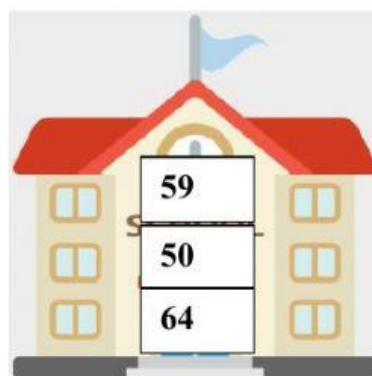
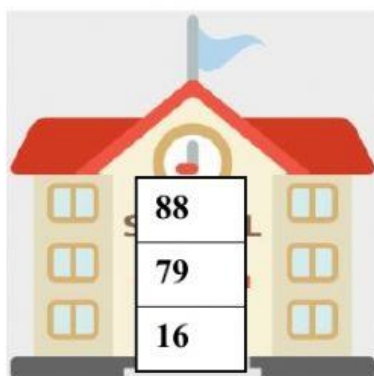
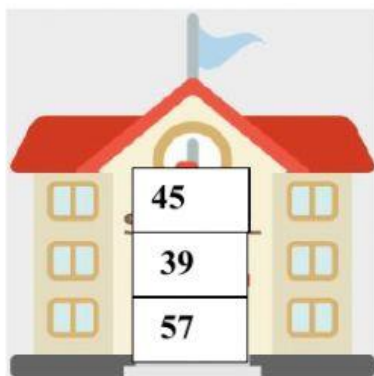


--	--	--	--	--	--

2. Completează tabelul.

	Cifra zecilor	Cifra unităților
47		
74		
58		
89		

3. Scrie vecinii numerelor:



4. Alege numărul mai mare din perechile:



5. Scrie :

cel mai mare număr natural scris cu două cifre diferite

cel mai mic număr natural scris cu două cifre identice

cel mai mare număr impar de două cifre

cel mai mic număr par de două cifre

toate numerele care au cifra unităților 8 și sunt cuprinse între 7 și 46

.....

6. Rotunjește la zeci următoarele numere:

