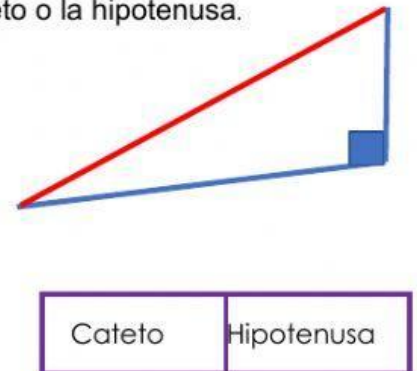
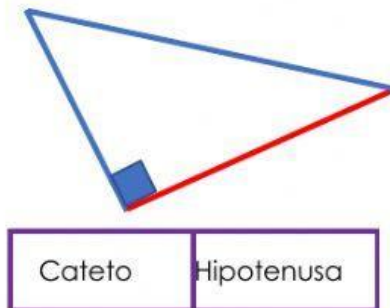
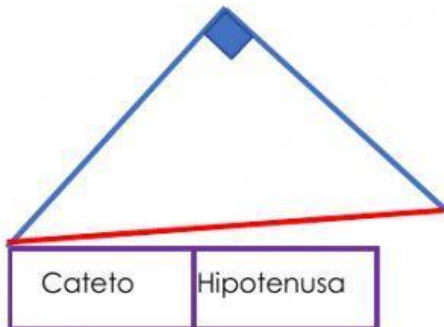


TEOREMA DE PITÁGORAS

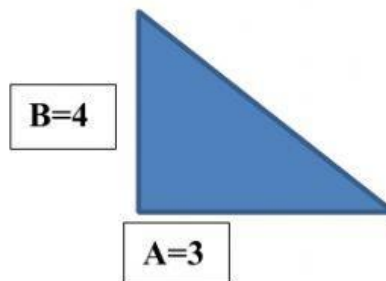
Nombre _____ Grado y Grupo _____

Señala si el lado de color rojo en cada triángulo corresponde a un cateto o la hipotenusa.

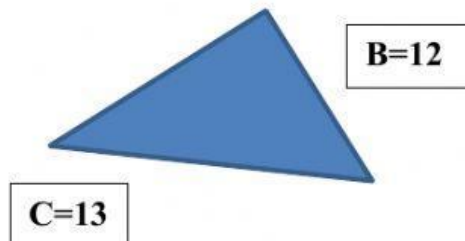


Calcula la medida del lado del triángulo faltante ya sea cateto o hipotenusa. Las medidas están dadas en cm.

Halla los valores faltantes	
A	3
B	4
C	



Halla los valores faltantes	
A	
B	12
C	13



Halla los valores faltantes	
A	
B	7
C	25



Halla los valores faltantes	
A	8
B	15
C	

