



مدارس الفرسان الأهلية
Al Forsan National Schools



الشركة التعليمية المتطورة
ADVANCED EDUCATIONAL CO.
تطوير التعليم - تطوير المستقبل

ورقة عمل

(1)



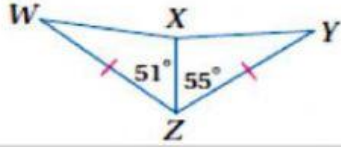
وزارة التعليم
Ministry of Education

المملكة العربية السعودية
وزارة التعليم
شركة أجيالنا التعليمية
إدارة التخطيط والتطوير والإشراف التربوي

الفصل الدراسي	الاول	المادة	رياضيات 1	الدرس	المتباينات في مثلثين
---------------	-------	--------	-----------	-------	----------------------

اسم الطالب	الفصل	الدرس
------------	-------	-------

السؤال الأول :-



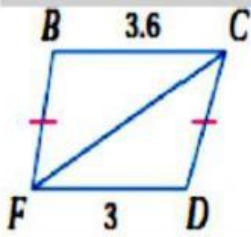
WX, XY

قارن بين القياسين المحددين في كل من السؤالين الآتيين :

WX

xy

1

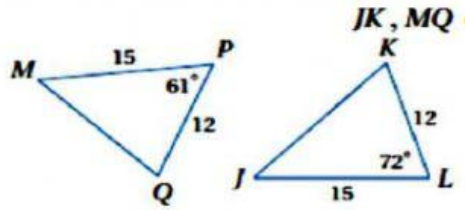


$m\angle FCD, m\angle BFC$

$\angle FCD$

$\angle BFC$

2



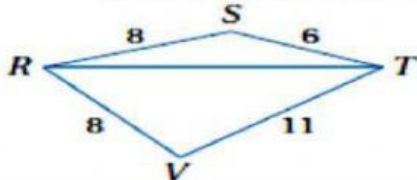
JK, MQ

JK

MQ

3

$m\angle SRT, m\angle VRT$

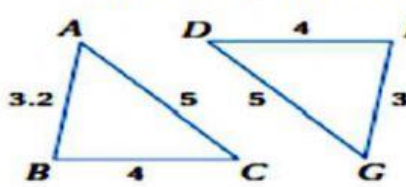


$\angle SRT$

$\angle VRT$

4

$m\angle ACB, m\angle GDE$

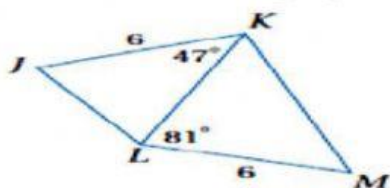


$\angle ACB$

$\angle GDE$

5

JL, KM



JL

KM

المعلم المادة	ناصر احمد / احمد سالم	المشرف التربوي	ا/ محمد جاب الله
---------------	-----------------------	----------------	------------------