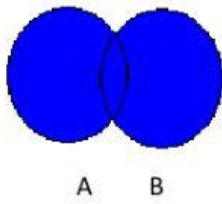
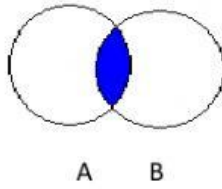


OPERACIONES ENTRE CONJUNTOS.

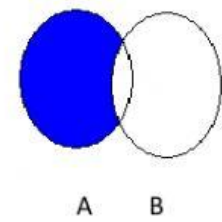
Tema I. Une cada operación con el diagrama de Venn-Euler que le corresponda.



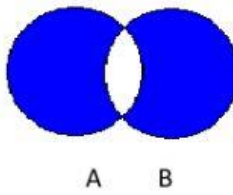
$A - B$



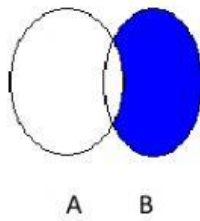
$A \cup B$



$B - A$



$A \Delta B$



$A \cap B$

Tema II. Observa el diagrama de la derecha y realiza las operaciones pedidas.

$B \cup C$ _____

$A - B$ _____

$(A \cup C) \cap B$ _____

$(A - B) \Delta (B \cup C)$ _____

A^c _____

