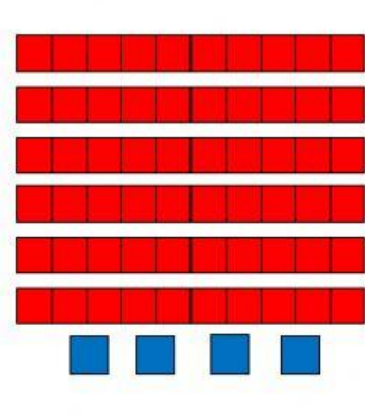






INSTITUTO MELVIN JONES POPAYÁN  
Tema: Números y orden hasta 99  
Actividad en Clase



1. Cuenta los grupos de fichas y completa.


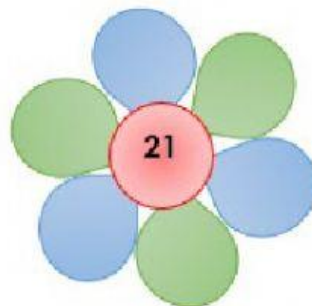



2. Lee y selecciona la imagen que cumple las condiciones dadas.

Hay menos de 35 panes  
Hay más de 29 panes



3. Escribe en los pétalos de color azul números mayores y en los verdes números menores que el número del centro.



4. Observa los números de las balotas y escribe con ellos todos los números de dos cifras.



\_\_\_\_\_ / \_\_\_\_\_ / \_\_\_\_\_ / \_\_\_\_\_ / \_\_\_\_\_ / \_\_\_\_\_

Escribe los números de menor a mayor

\_\_\_\_\_ < \_\_\_\_\_ < \_\_\_\_\_ < \_\_\_\_\_ < \_\_\_\_\_ < \_\_\_\_\_

Éxitos. 😊