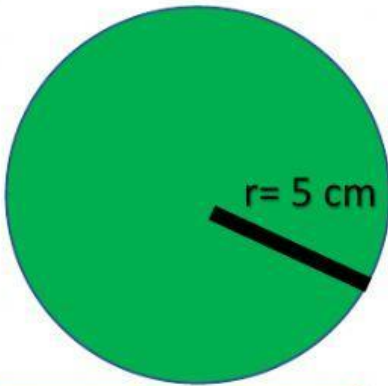


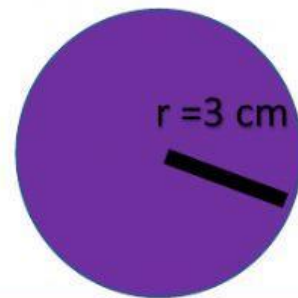
Perímetro y Área de circunferencia y círculo

INSTRUCCIONES: Encuentra el perímetro y área de las siguientes círculos y circunferencias. IMPORTANTE QUE CONSIDERES $\pi = 3.14$)



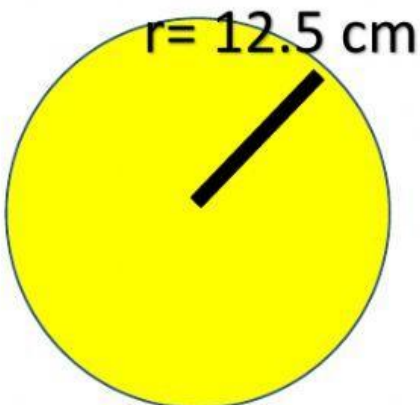
PERÍMETRO= cm

ÁREA= cm^2



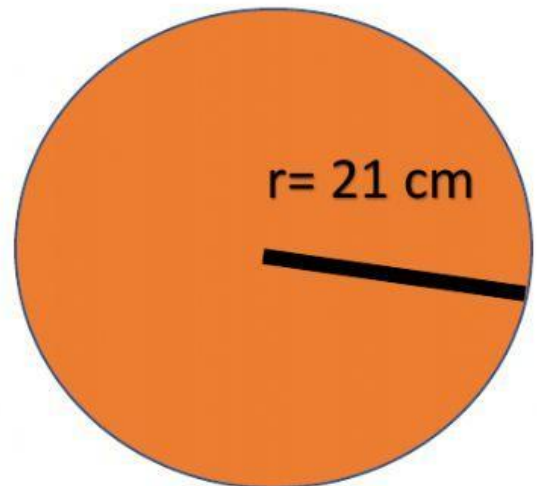
PERÍMETRO= cm

ÁREA= cm^2



PERÍMETRO= cm

ÁREA= cm^2



PERÍMETRO= cm

ÁREA= cm^2