



DINAS PENDIDIKAN PROVINSI DAERAH KHUSUS IBUKOTA JAKARTA
SEKOLAH LUAR BIASA (SLB) NEGERI 6 JAKARTA
Jl.Lapangan Jabek Komplek Mega Kebon Jeruk - Meruya Selatan, Kembangan,
Jakarta Barat 11650 Telp.021-91271724

Penilaian Akhir Semester 1 (PAS)
SMALB TUNARUNGU (B)
TAHUN AJARAN 2020 – 2021

Lembar Soal

Mata Pelajaran : Seni Rupa (Kriya Kayu)

Nama : _____

Kelas : _____

Petunjuk Umum:

1. Ketik nama di tempat yang telah disediakan!
 2. Pilih semua jawaban pada kolom jawaban yang telah disediakan!
 3. Kerjakan terlebih dahulu soal-soal yang dianggap mudah!
 4. Ketik dengan jelas, rapi !
 5. Periksa pekerjaan anda sebelum di klik “Selesai”!
-

A. Kerjakan dengan baik dan benar soal di bawah ini dengan memberikan tanda (x) jika benar

- 1 Di bawah ini yang merupakan seni rupa terapan adalah
A. patung
B. kriya kayu
C. lukis
D. mural
- 2 Lukis masuk kedalam seni rupa
A. seni 2 dimensi
B. seni Lukis
C. seni rupa terapan
D. seni 3 dimensi
- 3 Patung masuk kedalam seni rupa
A. seni 2 dimensi
B. seni lukis
C. seni rupa terapan
D. seni 3 dimensi
- 4 Lemari dan meja yang terbuat dari kayu masuk ke dalam seni
A. kriya keramik
B. kriya Kayu
C. kriya patung
D. kriya Tekstil
- 5 Fungsi gambar di bawah ini untuk



- A. menyambung Kayu
B. membuat lubang
C. pemisah Kayu
D. membuat karya seni
- 6 Fungsi dari gambar di bawah ini untuk



- A. penyambung kayu
B. merekatkan kayu
C. pemotong kayu
D. memukul paku

- 7 Apa nama alat yang digunakan untuk memukul paku
- A. palu
B. gergaji Manual
C. bor Listrik
D. gergaji mesin
- 8 Alat untuk memotong kayu menggunakan tangan adalah
- A. palu
B. gergaji Manual
C. paku
D. gergaji mesin
- 9 Apa nama mesin berikut ini



- A. Wood Jointer
B. Bandsaw
C. Scroll Saw
D. Sander
- 10 Mesin berikut ini bernama ...



- A. Scrool saw
B. Router
C. Wood Jointer
D. Sander

11



Apa mesin pada gambar diatas

- A. Mesin Router
 - B. Mesin Jigsaw
 - C. Mesin Scrool Saw
 - D. Mesin Tablesaw
- 12 Apa kegunaan dari mesin raouter
- A. Memotong Kayu
 - B. Membuat pola pada kayu
 - C. Membelah kayu
 - D. Menghaluskan Kayu

Untuk Soal No. 13 sampai dengan 17



- 13 Pada gambar lingkaran warna, warna apa yang memiliki warna netral
- A. merah
 - B. hitam
 - C. kuning
 - D. hijau
- 14 warna primer atau warna dasar ada 3, sebutkan yang termasuk warna primer
- A. merah
 - B. orange
 - C. ungu
 - D. hijau
- 15 Pada pencampuran warna, warna kuning dan merah akan menjadi warna
- A. merah
 - B. orange/ jingga
 - C. kuning
 - D. ungu
- 16 Pada pencampuran warna, warna merah dan biru akan menjadi warna

- A. merah
 - B. orange/ jingga
 - C. kuning
 - D. ungu
- 17 Untuk terjadinya warna hijau maka harus dicampurkan 2 warna yaitu
- A. biru dan merah
 - B. biru dan putih
 - C. hijau dan kuning
 - D. biru dan kuning

Gambar di bawah ini untuk soal no.17-19



- 18 Gambar diatas menunjukkan kegiatan ?
- A. memahat
 - B. memotong
 - C. mematung
 - D. melukis
- 19 Apa nama alat yang digunakan dalam memahat
- A. gergaji
 - B. hampelas
 - C. palu
 - D. alat pahat
- 20 Palu jenis apa yang digunakan untuk memukul alat pahat
- A. palu besi
 - B. palu martil
 - C. palu kayu
 - D. palu plastik

21



- Apa nama aplikasi pada gambar diatas
- A. corel draw
 - B. photoshop
 - C. premier
 - D. paint
- 22 Apa kegunaan aplikasi photoshop
- A. edit Video
 - B. nonton video
 - C. desain
 - D. membuat animasi

23 Contoh design yang dibuat dalam aplikasi photoshop di bawah ini adalah







- A. mesign font (Huruf)
- B. design darakter
- C. design angka
- D. design logo

24 Apa nama alat untuk membuat desain

- A. komputer
- B. handphone
- C. televisi
- D. proyektor

25 Pilihlah gambar yang sesuai dengan namanya

- A.  (Komputer)
- B.  (handphone)
- C.  (Laptop)
- D.  (Laptop)

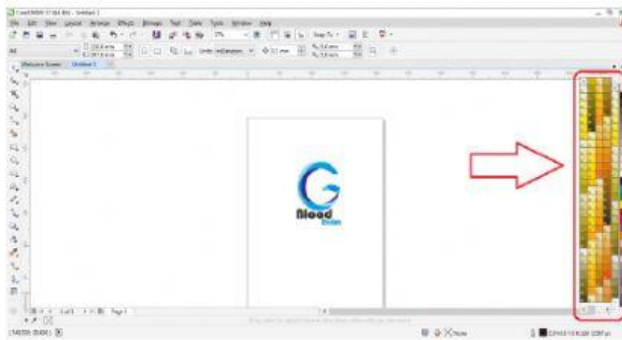
26



Apa nama Desain di atas

- A. Desain Identitas Visual
- B. Kemasan Produk
- C. Desain Pemasaran
- D. Desain Iklan

27 Fungsi Gambar di bawah ini adalah



- A. membuat bentuk design
 - B. menentukan objek
 - C. menentukan warna
 - D. mengubah bentuk
- 28 Apa kegunaan aplikasi coreldraw
- A. edit video
 - B. edit photo
 - C. edit lagu
 - D. desain
- 29 Apa itu limbah kayu
- A. Kayu baru
 - B. Kayu bekas/ sisa
 - C. Kayu yang belum dipotong
 - D. Kayu dalam bentuk balok

30



- Apa nama kayu pada gambar di atas
- A. jati belanda
 - B. sonokeling
 - C. jati
 - D. kayu Ulin
- 31 Berapa nomor hampelas yang paling kasar
- A. 100
 - B. 1000
 - C. 500
 - D. 2000
- 32 Berapa nomor hampelas yang paling halus
- A. 100
 - B. 1200
 - C. 1000
 - D. 2000

33



Termasuk dalam seni rupa apa kerajinan di atas

- A. 2 Dimensi
- B. Seni rupa murni
- C. Seni rupa Terapan
- D. Seni Lukis

34



Gambar di atas merupakan ?

- A. mesin scroll saw
- B. grinder
- C. jigsaw
- D. blender

35 Apa yang bisa kalian olah dari jenis kayu jati belanda yang diberikan sekolah ?

- A. lukisan
- B. keterampilan
- C. baju
- D. buku

B. Beri tanda B jika pernyataannya benar dan beri tanda S jika pernyataannya salah !

No	Pernyataan	B	S
1	Alat untuk menghaluskan kayu disebut dengan mesin sander	B	S
2	Gergaji biasanya digunakan untuk membuat ukiran pada kayu	B	S
3	Mesin scrollsaw biasanya digunakan untuk membuat kerajinan kayu dengan ukuran kecil	B	S
4	Gergaji manual merupakan gergaji dengan fungsi membelah dan memotong	B	S
5	Dalam membuat keterampilan kayu maka pengrajin harus mampu mendesain, membuat dan menjual barang yang dibuatnya	B	S

C. Samakan nama dengan alat-alat berikut ini dengan baik dan benar !



Mesin Sander



Mesin Bor Tangan



Mesin Router



Gergaji Manual



Mesin Scrollsaw