
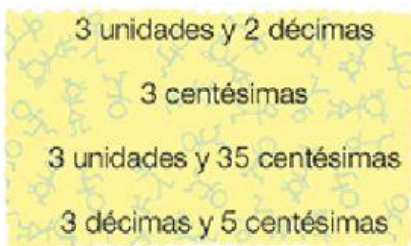


Nombre: Apellidos:

Curso: Grupo: Fecha:

Actividad nº 1

Relaciona:



Actividad nº 2

Coloca la coma en el lugar correspondiente.

- a) tres coma noventa y cinco: 395
- b) 9 unidades 18 centésimas: 918
- c) dos con diez: 210
- d) treinta con doce: 3012
- e) noventa y tres coma cuarenta: 9340

Actividad nº 3

Ordena estas fracciones de mayor a menor.

$$\frac{5}{9}$$

$$\frac{9}{9}$$

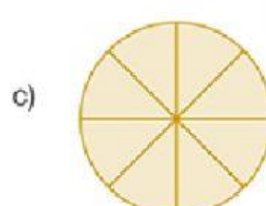
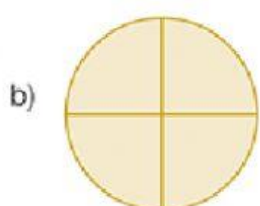
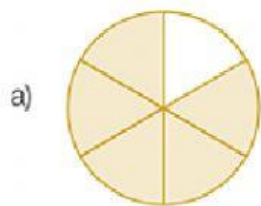
$$\frac{7}{9}$$

$$\frac{4}{9}$$

$$\frac{8}{9}$$

Actividad nº 4

Indica si estas imágenes representan una fracción mayor, menor o igual que la unidad.



Nombre: Apellidos:

Curso: Grupo: Fecha:

Actividad nº 5

Escribe la fracción que corresponde a cada tipo de pasta de esta bandeja.



magdalenas:

palmeras de chocolate:

rosquillas:

Actividad nº 6

Escribe las fracciones que corresponden a estas frases y ordénalas de menor a mayor.

- a) Leticia practica deporte 5 días de los 7 que tiene la semana.
- b) Luis ha visto 7 películas este año y 6 de ellas eran de aventuras.
- c) De los 7 amigos que fueron a la fiesta de Pedro, 4 le regalaron un libro.

Actividad nº 7

Clasifica estas fracciones en menores, iguales o mayores que la unidad.

$$\frac{4}{4} \quad \frac{3}{8} \quad \frac{3}{2} \quad \frac{3}{3} \quad \frac{7}{9}$$