

























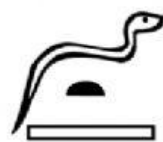
 =3	 =60	 =180	 =30	 =2	 =1000
 =25	 =100	 =48	 =9	 =64	 =5
 =50	 =12	 =21	 =4	 =8	 =11
 =15	 =6	 =10	 =360	 =90	 =0
 =1	 =16	 =7			

A=gramos en un kilo	B=Mínimo común múltiplo entre 10 y 15	C=la tercera parte de una docena	D=cuarto de hora
E=área de un cuadrado de lado 5	F=cantidad de caras de un cubo	G=ángulo llano	H=cantidad de divisores de 36
I=ángulo recto	J=si el perímetro de un cuadrado es 40, ¿cuál es la longitud de su lado?	K=un giro (ángulo)	L=cantidad de lados de un octógono
M=diámetro de una circunferencia de radio 8	N=la mitad del siguiente de 5	$\tilde{N}=\sqrt{49}$	O= $8^2$
P=cantidad de lados de un pentágono	Q=cantidad de lados de un dodecágono	R= $5^0$	S=área de un rectángulo de 8x6
T=perímetro de un triángulo equilátero de 7 unidades de lado	U=un siglo	V=primer número primo	W=cantidad de vértices de un eneágono
X=elemento neutro de la suma	Y= la cuarta parte de 200	Z=Dado $30^\circ$ , su ángulo complementario	



--	--	--	--	--	--	--