


# Sistema Monetário

## Situações problema

- Leia com atenção a situação abaixo depois responda às perguntas.

### ATIVIDADE 1

Tiago foi à loja de brinquedos, comprou um carrinho e pagou com uma nota de  (20 reais).

Observe os valores dos brinquedos e depois responda às questões abaixo:



a) Tiago recebeu troco?

---

b) De quanto foi o troco de Tiago?

---

c) Se Tiago tivesse escolhido o dardo e a bola daria para ele pagar?

---

d) Sobraria troco?

---

e) Qual brinquedo Tiago poderia comprar para ter 5 reais de troco?

---

## ATIVIDADE 2









Helena comprou uma boneca e deu uma nota de 50 reais para pagar. Quanto ela recebeu de troco?



32 reais

Helena recebeu de troco 18 reais.

Agora faça o mesmo completando o quadro abaixo:

Você comprou	Deu em dinheiro	Recebeu de troco
 <div style="border: 1px solid black; padding: 5px; display: inline-block; margin-left: 10px;">12 reais</div>	 <p>20 reais</p>	<hr style="border-top: 1px dashed black;"/>
 <div style="border: 1px solid black; padding: 5px; display: inline-block; margin-left: 10px;">35 reais</div>	 <p>50 reais</p>	<hr style="border-top: 1px dashed black;"/>
 <div style="border: 1px solid black; padding: 5px; display: inline-block; margin-left: 10px;">8 reais</div>	 <p>10 reais</p>	<hr style="border-top: 1px dashed black;"/>
 <div style="border: 1px solid black; padding: 5px; display: inline-block; margin-left: 10px;">20 reais</div>	 <p>50 reais</p>	<hr style="border-top: 1px dashed black;"/>