

Domande risposta multipla

Scegli la risposta corretta.

Indirizzi			
Cognome	Nome	Indirizzo	Telefono
Pallino	Pinco	Via Biglie 1	0222,222222
Tizi	Tizio	Via Tazi 5	0555,555555
Cai	Caio	Via Caini 1	0888,888888
Semproni	Sempronio	Via Sempi 7	0999,999999

1) Che modello viene rappresentato in figura?

Modello Gerarchico

Modello Reticolare

Modello Relazionale

ID	Nome	Cognome	Età
0	Marco	Rossi	18
1	Luca	Verdi	25
2			

2) Cosa indica il rettangolo rosso?

La cardinalità

Il campo

Il record

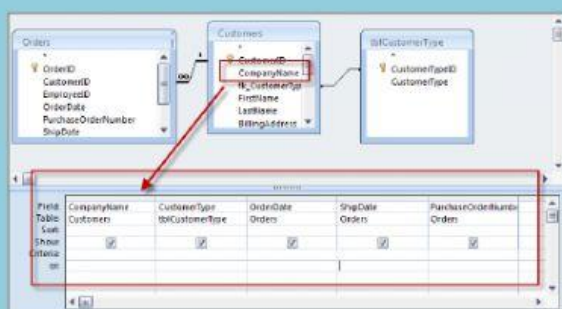
ID	Nome	Cognome	Età
0	Marco	Rossi	18
1	Luca	Verdi	25
2			

3) Che cosa indica il rettangolo rosso?

Gli attributi

Il record

La colonna



4) Che cosa viene eseguita nell'immagine?

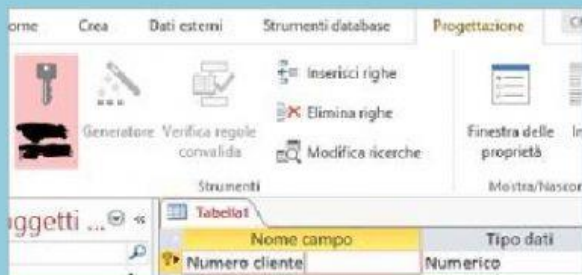
La creazione di una maschera

La creazione di un report

La creazione di una query

Domande risposta multipla

Scegli la risposta corretta.

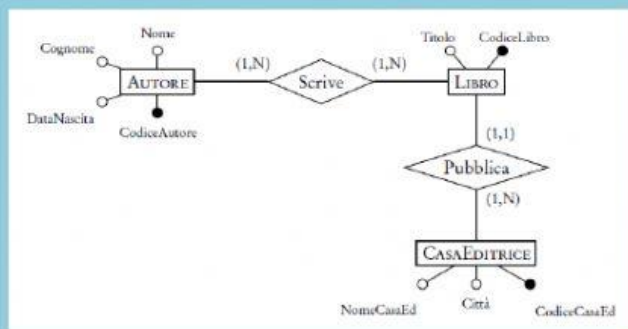


5) Come si chiama l'elemento salvato in foto?

Ricerca guidata

Chiave primaria

Chiave secondaria



6) Che tipo di livello viene rappresentato in foto?

Livello concettuale

Livello fisico

Livello logico



7) Che cosa indica il punto esclamativo rosso in foto?

E' il simbolo della creazione di una maschera

E' il simbolo di ricerca automatica

E' il simbolo della verifica di una query



8) Che tipo di estensione ha un file di access?

.doc

.xls

.mdb

Domande risposta multipla

Scegli la risposta corretta.

1 di 4

9) Quella che vedi è:

Barra scorrimento query

Barra scorrimento orizzontale

Barra scorrimento record

ID	Nome	Cognome	Età
0	Marco	Rossi	18

10) Che cosa misura il record?

Il grado

La cardinalità

Il campo