



SEMANA 33- DÍA 4

MUJERES QUE REPRESENTAN AL PERÚ



Lee la siguiente información sobre las mujeres que han hecho y hacen historia en el Perú:

Chabuca Granda



Es una cantautora destacada de nuestra música criolla. Su tema más conocido es "La flor de la canela". García, B. (27 de agosto de 2020). "Déjame que te cuente": Lanza libro sobre las historias detrás de las canciones de Chabuca Granda".

Pilar Jáuregui



Es una deportista peruana de parabádminton. Ganó una medalla de oro en los Juegos Parapanamericanos realizados en el Perú en el 2019. Pilar Jáuregui rumbo al tricampeonato en los Juegos Parapanamericanos (23 de agosto de 2019).

Jackelynne Silva Gamarra



Es una ingeniera aeroespacial y futura astronauta cusqueña. Orgullo peruano: La historia de Jackelynne Silva que se fue de Cusco a la Nasa (24 de mayo de 2017)

NUESTRA META: Leer gráficos de una encuesta sobre las mujeres que destacan en el Perú.

CARACTERÍSTICAS O CRITERIOS PARA LOGRAR LA META:

- Leer información en gráficos de barras, identificando la mayor y menor preferencia.
- Registrar información en tablas simples y representarlas en pictogramas.
- Tomar decisiones sobre la base de la información recogida.

Lee con apoyo de un familiar el siguiente problema:

En la escuela de Margot, han identificado a tres mujeres que aportaron al Perú. Desean conocer más sobre ellas, pero no deciden por quién empezar. Para ello, realizaron una encuesta y presentaron los resultados en el siguiente gráfico. **¿En qué orden van a conocer a las peruanas?**



1. ¿A qué mujeres han identificado en la escuela de Margot?



2. ¿Cómo presentaron los resultados de su encuesta?

- a) En un dibujo.
- b) En un gráfico de barras.
- c) En una ficha.

3. ¿Cómo puedes saber quién tuvo más o menos votos?, ¿por qué?

4. ¿Qué peruana tiene más votos?, ¿cuántos?

- a) Chabuca Granda, 6.
- b) Pilar Jáuregui, 8.
- c) Jackelynne Silva Gamarra, 5.

¿Qué peruana recibió 5 votos?

- a) Chabuca Granda.
- b) Jackelynne Silva Gamarra.
- c) Micaela Bastidas.

Recuerda: El gráfico de barras sirve para organizar y comparar datos sobre los gustos y preferencias de las personas. También nos ayuda a identificar, mediante una lectura rápida, qué información tiene mayor o menor preferencia comparada con otra.

¿Cuántos votos más obtuvo Chabuca Granda que Jackelynne Silva?

- a) 1 voto.
- b) 2 votos.
- c) 3 votos.

Completa la siguiente tabla y las oraciones con los datos del gráfico de barras:

Peruanas	Chabuca Granda	Pilar Jáuregui	Jackelynne Silva Gamarra
Cantidad de votos			

¿En qué orden van a conocer a las peruanas?

- Respuesta: El orden en que conocerán a las peruanas es _____, _____ y _____.


Chabuca Granda

Pilar Jáuregui

Jackelynne Silva Gamarra

Lee el siguiente problema

Juan y María cuentan los votos que obtuvieron al realizar la encuesta a sus compañeras y compañeros sobre algunas peruanas destacadas. ¿Qué peruana tuvo más votos?



Estos son los votos que obtuvimos.



Completa la tabla la tabla de conteo según la cantidad de votos que tiene cada persona.

Peruana	Conteo	Total
Yma Súmac		
María Elena Moyano		
Inés Melchor		



Un **pictograma** es un tipo de gráfico cuya información o datos se representan a través de dibujos.

Completa el pictograma. Cada carita feliz 😊 representa un voto.




Peruanas que hacen historia	
Yma Súmac	
María Elena Moyano	
Inés Melchor	



- ¿Qué peruana tiene más votos?, ¿cuántos? _____
- ¿Qué peruana recibió 4 votos? _____
- ¿Qué peruana tiene menos votos? _____


- ¿Cuántos votos más obtuvo Yma Súmac que María Elena Moyano? _____
- ¿Cuántos votos menos obtuvo María Elena Moyano que Inés Melchor? _____


¡MUY BIEN, HAS HECHO UN BUEN TRABAJO! AHORA TE PROPONEMOS SEGUIR INVESTIGANDO SOBRE LAS PERUANAS QUE HICIERON HISTORIA. LAS SIGUIENTES FICHAS TE PUEDEN AYUDAR:

Yma Súmac	María Elena Moyano	Inés Melchor
		
Dibuja o pega	Dibuja o pega	Dibuja o pega
¿Qué hizo?	¿Qué hizo?	¿Qué hizo?

EN TU CUADERNO DE MATEMÁTICA: ELABORA UN PICTOGRAMA PARA EL SIGUIENTE GRÁFICO DE BARRAS.



PUEDES UTILIZAR UN CORAZÓN  PARA REPRESENTAR CADA JUGUETE QUE TIENE JUAN. POR EJEMPLO:

JUGUETE	CONTEO	TOTAL
PELOTA	  	3
CARRO		
BICICLETA		
OSO		