


## Integración de Ciencias Naturales

### 4to Grado

#### 1- Unir con la opción correcta

|   |   |
|---|---|
|    | Tiene un cuerpo alargado, hidrodinámico, y aletas.            |
|    | Presenta dedos oponibles y escamas.                           |
|    | Tiene garras para escarbar y bigotes para ubicarse.           |
|   | Presenta espinas  |
|  | Tiene una gruesa capa de grasa bajo la piel y abundante pelo. |

#### 2- Adivina Adivinador

¿Cuál es la diferencia más importante entre los animales vertebrados e invertebrados? \*

- ☐ a. unos poseen columna vertebral y los otros carecen de ella.
- ☐ b. unos viven en el mar y otros en la tierra.
- ☐ c. unos vuelan y otros nadan

Soy vivíparo, mi cuerpo está cubierto de pelos, mi respiración es pulmonar, soy vertebrado y camino. \*

- ☐ a. león
- ☐ b. gallina.
- ☐ c. cocodrilo
- ☐ d. ballena.

### 3- ¡A mover el esqueleto!

Relaciona cada animal con su forma de locomoción \*


|         | Perro                 | Cardenal                         | Bagre                 |
|---------|-----------------------|----------------------------------|-----------------------|
| Nadar   | <input type="radio"/> | <input type="radio"/>            | <input type="radio"/> |
| Caminar | <input type="radio"/> | <input type="radio"/>            | <input type="radio"/> |
| Volar   | <input type="radio"/> | <input checked="" type="radio"/> | <input type="radio"/> |

### 4- Adaptaciones de los animales al medio

¿Qué es adaptación ? \*

- ☐ Es la facilidad que tienen los seres vivos para desaparecer cuando las condiciones son inadecuadas
- ☐ La capacidad que tienen los seres vivos para acomodarse al ambiente y a los cambios que sufre y sobrevivir

### 5- a) Arrastra las partes de la planta a su lugar.



b) - Une el orden en que se desarrolla el ciclo de la vida.

1

2

3

4

5

6

## El Ciclo de Vida de las Plantas

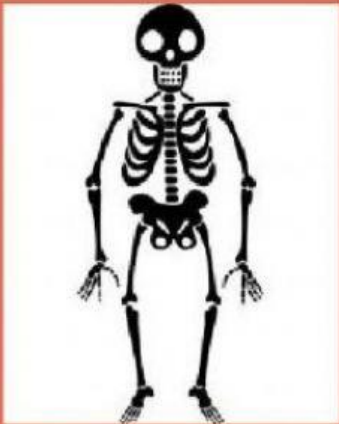
6- Sistema osteoartromuscular

. De las siguientes estructuras, ¿cuál es la responsable de mantener unidos los músculos a los huesos? \*


- ☐ A. Las articulaciones.
- ☐ B. Los ligamentos.
- ☐ C. Los tendones.
- ☐ D. Los músculos.

**7- Arrastra y ubica en el lugar que corresponda.**


**HUESOS**



**ARTICULACIONES**



**MÚSCULOS**



RODILLA

GEMELOS

PELVIS

COLUMNA VERTEBRAL

BICEPS

PECTORALES

MUÑECA

FÉMUR

**8- Arrastra y ubica en el lugar que corresponda.**



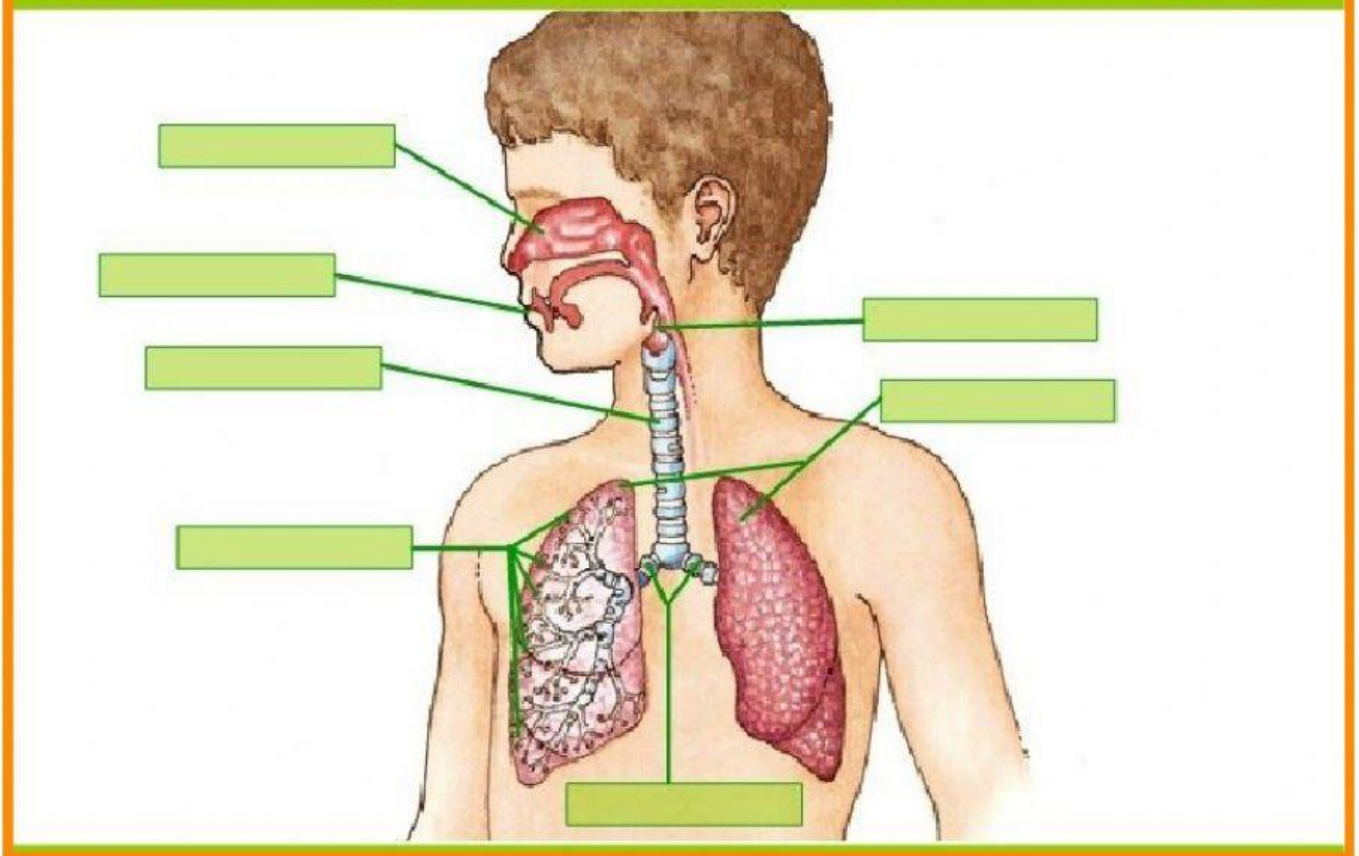
fosas nasales  
bronquios

boca

pulmones

bronquiolos

laringe  
tráquea



9 - Elige la opción correcta.

# LOS SUBSISTEMAS TERRESTRES

