



SUMA CON LOS VALORES DE LAS FIGURAS .



1-COMPLETA CADA EJERCICIO CON EL NOMBRE DE LA FIGURA QUE CORRESPONDA.

1-  +  =

6-  +  =

2-  +  +  =



7-  +  +  =

3-  +  =

8-  +  =

4-  +  =

9-  +  =

5-  +  =

10-  +  +  =