



PEMBELAJARAN JARAK JAUH KELAS VI  
SD ANGKASA 5  
TAHUN PELAJARAN 2020/2021



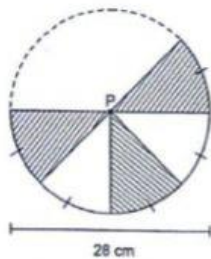
Mata Pelajaran : MATEMATIKA Nama :

Hari/Tanggal : Kelas : VI

1. Sebuah roda diketahui memiliki diameter 105 cm. Roda tersebut berputar sebanyak 8 kali. Jarak yang ditempuh roda tersebut adalah ....

- a. 3,3 meter
- b. 12,3 meter
- c. 24,6 meter
- d. 26,4 meter

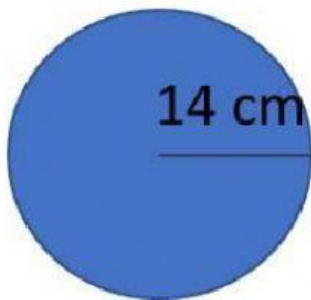
2. Perhatikan gambar di bawah!



Luas bagian bangun yang diarsir adalah ....

- a.  $924 \text{ cm}^2$
- b.  $462 \text{ cm}^2$
- c.  $369,6 \text{ cm}^2$
- d.  $231 \text{ cm}^2$

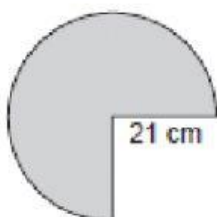
3. Perhatikan gambar berikut!



Keliling bangun datar seperti gambar adalah...

- a. 616 cm
- b. 154 cm
- c. 88 cm
- d. 44 cm

4. Luas bangun di bawah ini adalah ....



- a.  $346,5 \text{ cm}^2$
- b.  $693 \text{ cm}^2$
- c.  $1.039,5 \text{ cm}^2$
- d.  $1.386 \text{ cm}^2$

5. Sebuah taman berbentuk lingkaran berdiameter 28 m, seperempat bagian taman ditanami bunga Lavender dan sisanya ditanami sirih kuning. Luas taman yang ditanami sirih kuning adalah ...
- a.  $462 \text{ m}^2$
  - b.  $446 \text{ m}^2$
  - c.  $526 \text{ m}^2$
  - d.  $555 \text{ m}^2$