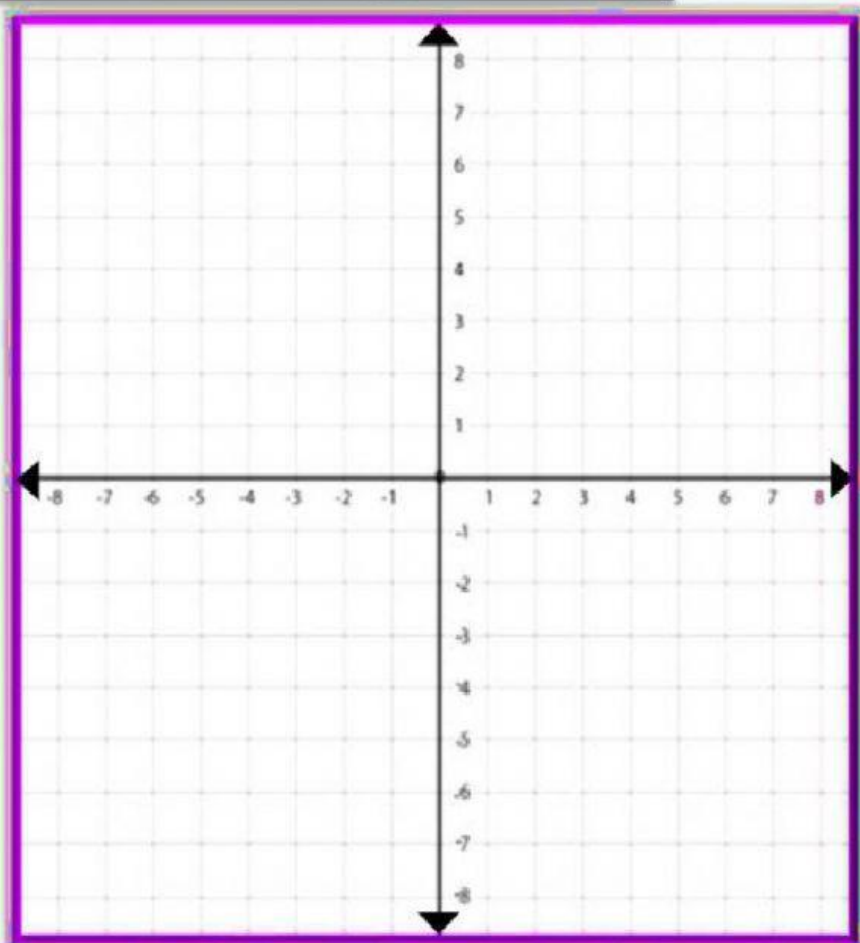


COORDENADAS CARTESIANAS

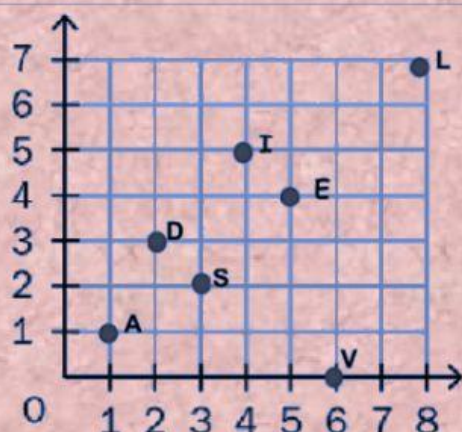
1) Arraste cada ponto ao seu local correspondente e descubra a imagem oculta.



- Points to be plotted:
- $-7, 0$
 - $-7, 3$
 - $-5, 5$
 - $-2, 5$
 - $0, 3$
 - $2, 5$
 - $5, 5$
 - $7, 3$
 - $7, 0$
 - $4, -3$
 - $0, -7$
 - $-4, -3$



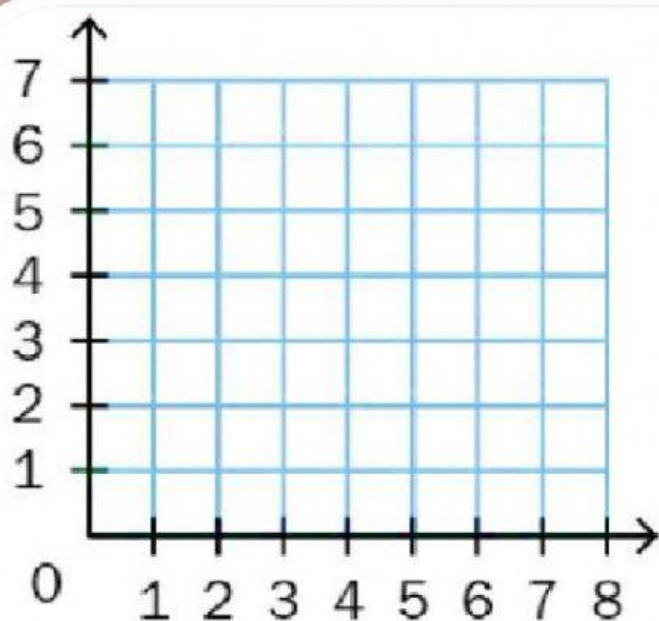
2) Escreva a letra que corresponde a cada par ordenado e descubra a palavra secreta: **Obs.: Escreva com letra maiúscula.**



(6, 0)	(4, 5)	(2, 3)	(1, 1)

Digite a palavra secreta letra maiúscula:

3) Arraste cada ponto ao seu local correspondente e descubra a imagem:



(3,1)



(2,2)



(2,4)



(3,5)



(5,5)



(6,4)



(6,2)



(5,1)

Grasi Gino