


# ¿SUMAR O MULTIPLICAR?

1. *Observa la imagen y responde:*



¿Cuántas bolsas de manzanas hay?



¿Cuántas manzanas hay en cada bolsa?

¿Cuántas manzanas hay en total?



2. Don José, el verdulero, anotó las siguientes ventas durante la mañana. Observa atentamente el ejemplo y completa la tabla.

Planteo del problema	Dibujo	Suma	Multiplicación
Ana compró 4 bolsas con 2 ananás en cada una		$2 + 2 + 2 + 2 = 8$	$4 \times 2 = 8$
Joaquín compró 3 bolsas con 8 frutillas en cada una		$+ + =$	$\times =$

Planteo del problema	Dibujo	Suma	Multiplicación
Lucía compró 5 bolsas con 4 naranjas en cada una		$+$ $+$ $+$ $+$ $+$ $=$	$\times$ $=$
Tomás compró 2 bolsas con 3 bananas en cada una		$+$ $=$	$\times$ $=$

3. En cada problema que se presenta a continuación, indica todos los cálculos que sirvan para resolverlo.

a. La abuela les regaló 3 paletas a cada uno de sus 5 nietos. ¿Cuántas paletas tenía?

$3 + 5$

$5 + 5 + 5 + 5$

$5 \times 3$

$3 \times 3$

$3 + 3 + 3 + 3 + 3$

$3 \times 5$

b. Delfina compró 4 paquetes con 7 gomitas cada uno. ¿Cuántas gomitas compró?

$7 + 7 + 7 + 7$

$4 + 7$

$7 + 4$

$7 \times 4$

$4 + 4 + 4$

$4 \times 7$

c. Ignacio encargó 2 cajones con 6 gaseosas cada uno. ¿Cuántas gaseosas encargó Ignacio?

$2 + 6$

$6 + 6$

$2 \times 6$

$6 \times 2$

$6 \times 6$

$2 + 2$

