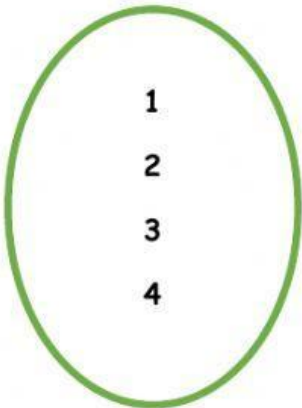
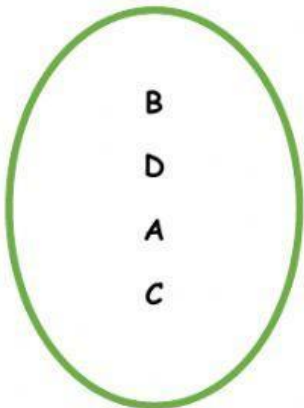




RELACIONE LOS ELEMENTOS DEL **CONJUNTO DE SALIDA** CON EL CONJUNTO DE **LLEGADA** Y REPRESENTE LOS PARES ORDENADOS.




Conjunto de salida



Conjunto de llegada

(), (), (), (), (), ()

1. **Observa** cómo a cada miembro de la familia le corresponde una cuchara.



Conjunto de salida

Conjunto de llegada

(), (), (),
(), (),



Conjunto de salida

(

), (

)




Conjunto de llegada



Conjunto de salida

(

), (



Conjunto de llegada

), (

)

