

EVALUACIÓN DE PERSONAL SOCIAL

SÉPTIMA UNIDAD

S.E.P.
Claret
Arequipa

ESTUDIANTE:.....

GRADO: PRIMERO SECCIÓN: AMARILLO

PROF: Eugenia Mendoza Flores Fecha: 17/11/2020

1. Selecciona la respuesta correcta referida a la cultura Caral.
 La Cultura Caral es considerada la civilización más antigua de:

- a. Europa y Asia
- b. Perú y América
- c. Antártida




- Se desarrolló en el departamento de :

- a. Arequipa
- b. Ica
- c. Lima



- En la provincia de:

- a. Huacho
- b. Barranca Supe
- c. Callao



- Descubrió la Cultura Caral



2. Une con flechas las ubicaciones de las siguientes culturas.




Cultura Chavín



Cultura Nazca



Cultura Paracas



Cultura Mochica



Cultura Tiahuanaco

En la península de Paracas en el departamento de Ica

En el departamento de Ancash distrito de Chavín de Huantar

Al Sur Este del Lago Titicaca entre Bolivia y Perú

En la provincia de Nazca en el departamento de Ica

En los departamentos de Lambayeque y la Libertad

3. Selecciona la cultura a la que pertenece las imágenes y escribe lo más representativo de cada cultura.



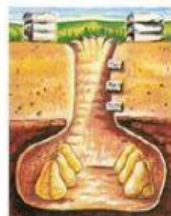
Cultura:

Lo más representativo de esta cultura:



Cultura:

Lo más representativo de esta cultura:



Cultura:

Lo más representativo de esta cultura:



Cultura:


Lo más representativo de esta cultura:

4. Las dos leyendas que explican el origen del Imperio Incaico son
 Leyenda de _____ y la
 Leyenda de _____

5. Une con flechas la imagen con los carteles a los que pertenece.



La Educación



Normas morales



YACHAYWASI
 (Casa del Saber)
 AMAUTA - CUSCO



ACLLAWASI
 (Casa de las Escogidas)
 MAMACONAS - TAHUANTINSUYO

Formas de trabajo



NOBLEZA CUSQUENA
 HIJOS DE CURACAS SOMETIDOS



6. Responde y completa las siguientes afirmaciones

- ✗ El Imperio de los incas fue gobernado por Incas, siendo el primero y el ultimo Inca
- ✗ El imperio se dividió en 4
- ✗ Los eran denominados casa del saber donde enseñaban los a varones hijos dela nobleza.
- ✗ Los era denominado casa de las escogidas aquí enseñaban las mamaconas a las mujeres escogidas.

Manco Capac

Amautas

Yachaywasi

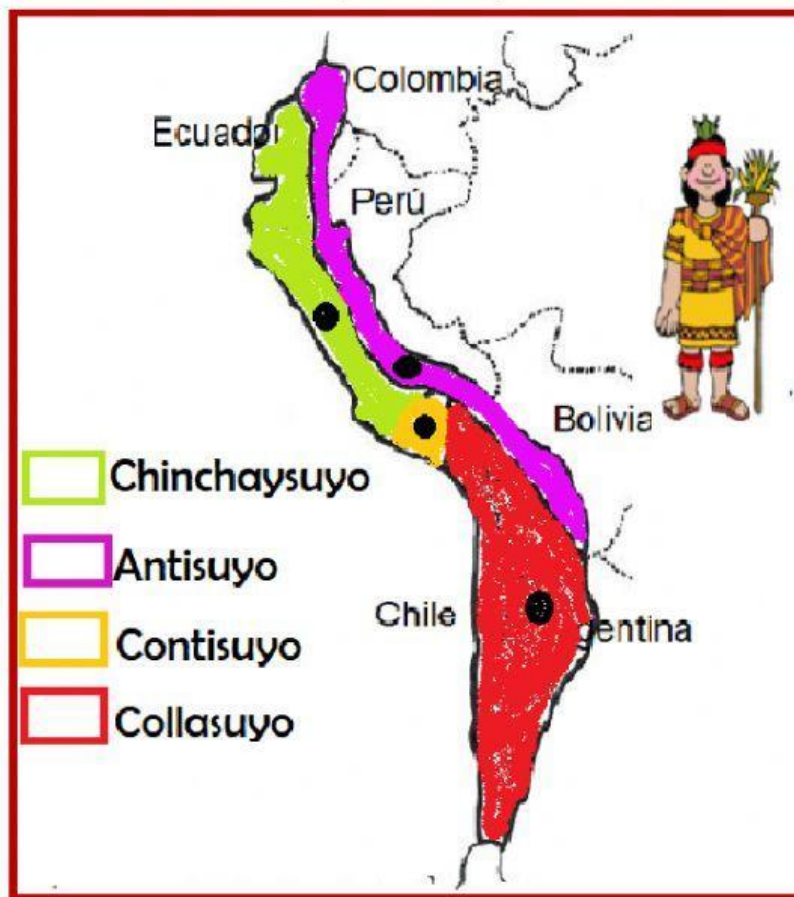
Acllawsi

Suyos

Atahualpa

14

7. Señala con flechas los cuatro suyos del imperio incaico



8. Marca y escribe la respuesta correcta a cada afirmación según corresponda respecto al descubrimiento de América.

✗ ¿Por qué la mayoría de marinos no querían arriesgar y viajar mar adentro en busca de nuevas rutas para llegar a la India?

- a. Porque pensaban que la tierra era redonda
- b. Porque no sabían navegar
- c. Porque pensaban que la tierra era plana y no podrían navegar más allá, corrían peligro sus embarcaciones.



✗ ¿Qué motivo a Cristóbal Colón iniciar su viaje?

- a. Buscar Nuevas Tierras.
- b. Buscar otro camino para llegar a la India.
- c. Pasear por los mares.




✗ ¿A quien pidió ayuda Cristóbal Colon para realizar este viaje?

- a. A sus hermanos
- b. A los reyes de España Fernando e Isabel.
- c. A los sacerdotes de España.



✗ ¿Con que embarcaciones viajó Cristóbal Colon?

- a. Las tres Marías
- b. La niña , La Pinta y La Santa María
- c. Los barcos piratas



✗ ¿En qué fecha Cristóbal Colon descubrió América?

- a. 28 de julio 1821
- b. 12 de octubre 1492
- c. 14 de septiembre 1654

