

# ZENBAKIKUNTZA

1.-Idatzi zifraz behean agertzen diren zenbakiak

Hogeita hiru milioi berrogeita hiru mila eta hamabost.....

Berrehun eta hirurogeita sei mila eta bost.....

Hamasei milioi eta ehun eta hogeita sei.....

Seiehun eta sei mila hirurehun eta laurogeita hamazortzi.....

2.-Lotu balio berekoak direnean

165.436

234.567

1.789.400

4.060.608

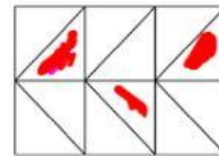
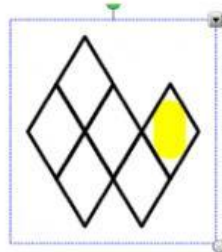

1MM+7M+8HM+4E

4MM+6HM+6E+8B

1EM+6HM+5M+3E+4H+6B

2EM+3HM+4M+5E+6H+7B

3.-Idatzi irudi bakoitzean markatuta daogen zatiari dagokion zatikia.



4.-Idatzi hamartar bakoitzari dagokion zatikia

0,75=

0.05=

0.8=

0.25=

24,25=

2,12=

5.-Idatzi zatikiak hamartar gisa.

$\frac{3}{4}$  =

$\frac{4}{5}$  =

$\frac{5}{2}$  =

$\frac{3}{2}$  =

$\frac{1}{2}$  =

2/10=

8/10=

4/100=

7/2=

20/40=