


Όνομα: \_\_\_\_\_

Κεφάλαιο 22

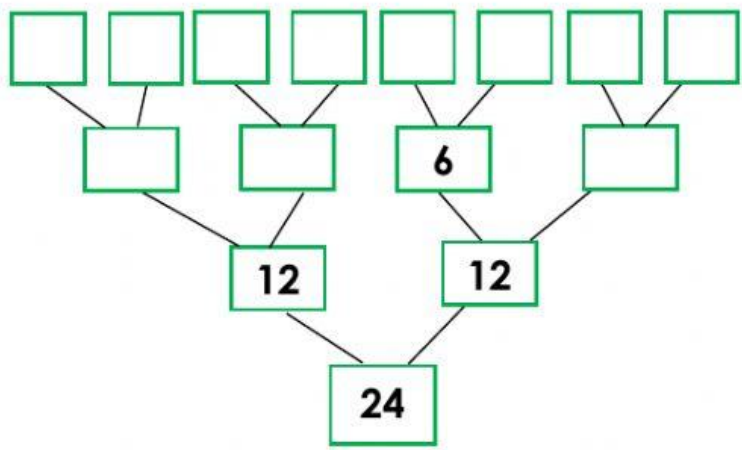
Τι θα πει **αναλύω** έναν αριθμό;



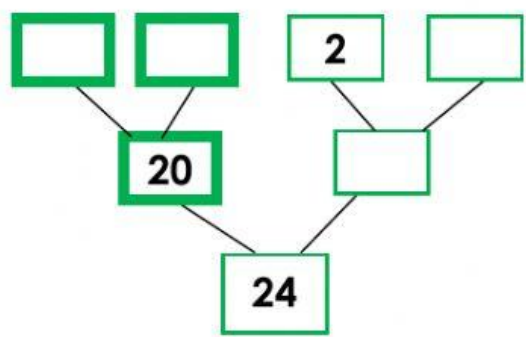
Θα πει γράφω τους μικρότερους αριθμούς που τον φτιάχνουν. Τα μαγικά δέντρα με βοηθάνε να τους βρω.



Συμπλήρωσε το μαγικό δέντρο του 24 με δύο τρόπους.

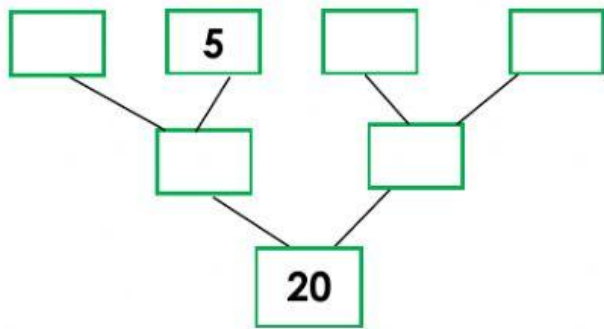


- ⇒  $24 = \dots \times \dots$
- ⇒  $24 = \dots \times \dots$
- ⇒  $24 = 2 \times \dots$



- ⇒  $24 = (\dots \times \dots) + (\dots \times \dots)$
- ⇒  $24 = \dots + \dots$

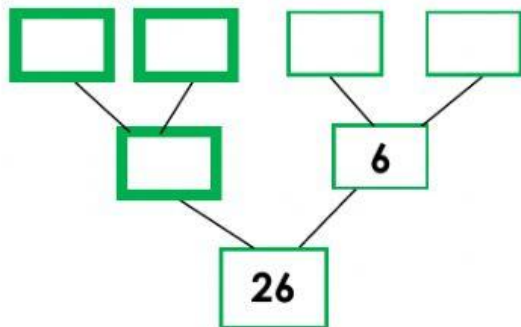
Συμπλήρωσε το μαγικό δέντρο του 20.



$$\Rightarrow 20 = \dots\dots X \dots\dots$$

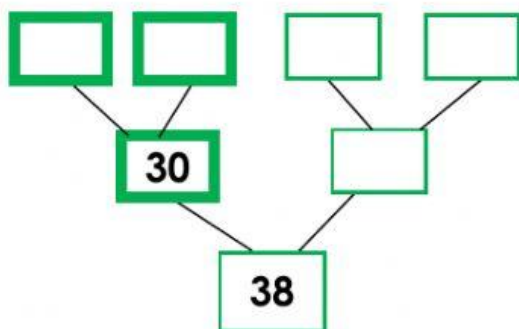
$$\Rightarrow 20 = \dots\dots X \dots\dots$$

Συμπλήρωσε το μαγικό δέντρο του 26 και του 38.



$$\Rightarrow 26 = (\dots\dots X \dots\dots) + (\dots\dots X \dots\dots)$$

$$\Rightarrow 26 = \dots\dots + \dots\dots$$



$$\Rightarrow 38 = (\dots\dots X \dots\dots) + (\dots\dots X \dots\dots)$$

$$\Rightarrow 38 = \dots\dots + \dots\dots$$