

Nombre:

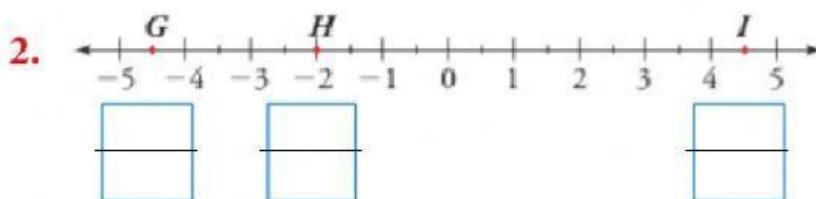
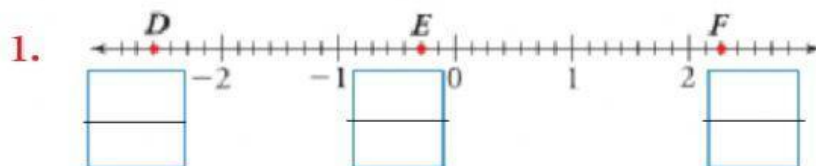
Fecha:

Curso:

Paralelo:

**Representación y comparación entre números Racionales.
Versión 3**

Escriba la fracción correspondiente en el casillero ubicado en la recta numérica.



Determina el valor de verdad de cada afirmación.
Justifica tu respuesta.

4. El número $\frac{4}{3}$ está ubicado entre 0 y 1.

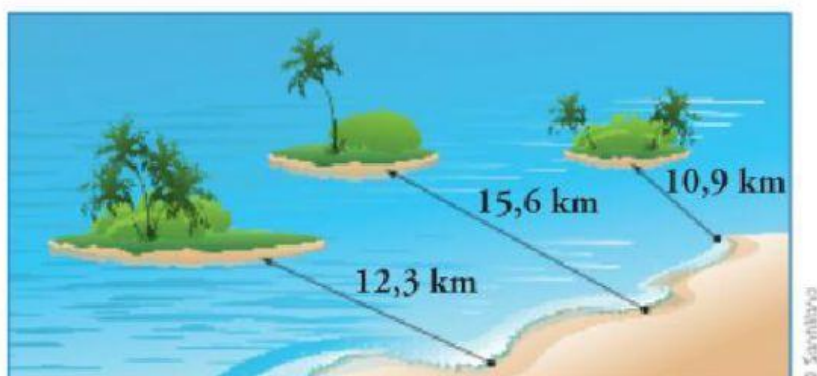
☐

5. El número $-\frac{9}{4}$ está ubicado entre -3 y -2.

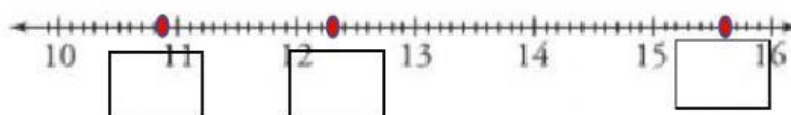
☐

Observa y responde.

La siguiente gráfica muestra las distancias de tres islas a la costa.



16. Ubica las distancias de las islas en la recta numérica.



17. ¿Qué isla está más alejada de la costa?

18. Organiza, de menor a mayor distancia, las islas teniendo en cuenta la playa.

<div></div>	<	<div></div>	<	<div></div>
-------------	---	-------------	---	-------------

Compare con los signos <, > según corresponda:

$\frac{4}{6}$	<div><div><</div><div>></div></div>	$\frac{2}{6}$		$\frac{3}{6}$	<div><div><</div><div>></div></div>	$\frac{5}{6}$
$\frac{2}{4}$	<div><div><</div><div>></div></div>	$\frac{3}{4}$		$\frac{5}{7}$	<div><div><</div><div>></div></div>	$\frac{3}{7}$