

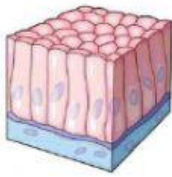
## JARINGAN HEWAN

Nama Lengkap :

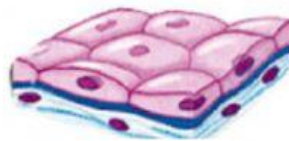
Kelas :

Silakan kerjakan latihan-latihan soal berikut secara mandiri

1. Silakan tarik gambar dan keterangan letak dari jaringan epitel pada kolom sesuai keterangan nama dan fungsinya.



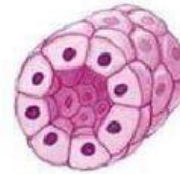
Kulit



Kelenjar ludah



Alveolus paru-paru



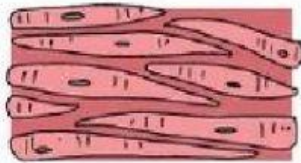
Lambung

No.	Jenis Jaringan	Letak	fungsi	Gambar
1	Epitel pipih selapis		Terkait dengan proses difusi dan filtrasi atau penyaringan	
2	Epitel pipih berlapis		Terkait dengan proteksi atau perlindungan	
3	Epitel kubus selapis		Pelindung atau proteksi, absorb dan penghasil mucus	

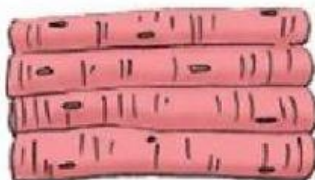
4	Epitel silindris selapis			
---	--------------------------	--	--	--

2. Tarik garis sesuai dengan pasangannya

a.



b.



c.

