















## Relación entre las figuras y silencios musicales

						
<b>Redonda</b>	<b>Blanca</b>	<b>Negra</b>	<b>Corchea</b>	<b>Semicorchea</b>	<b>Fusa</b>	<b>Semifusa</b>
						















**Cada figura y/o silencio dura la mitad de la que le precede.**

- 1.- ¿Qué figura precede a la Blanca? \_\_\_\_\_. Esto significa que la Blanca dura \_\_\_\_\_ de la Redonda.
- 2.- ¿Cuántas Blancas necesitarás para completar una Redonda? \_\_\_\_\_.
- 3.- ¿Qué figura precede a la Negra? \_\_\_\_\_. Esto significa que la Negra dura \_\_\_\_\_ de la Blanca.
- 4.- ¿Cuántas Negras necesitarás para completar una Blanca? \_\_\_\_\_.
- 5.- ¿Qué figura precede a la Corchea? \_\_\_\_\_. Esto significa que la Corchea dura \_\_\_\_\_ de la Negra.
- 6.- ¿Cuántas Corcheas necesitarás para completar una Negra? \_\_\_\_\_.
- 7.- ¿Qué figura precede a la Semicorchea? \_\_\_\_\_. Esto significa que la Semicorchea dura \_\_\_\_\_ de la Corchea.
- 8.- ¿Cuántas Semicorcheas necesitarás para completar una Corchea? \_\_\_\_\_.

- 9.- ¿Qué figura precede a la Fusa? \_\_\_\_\_. Esto significa que la Fusa dura \_\_\_\_\_ de la Semicorchea.
- 10.- ¿Cuántas Fusas necesitarás para completar una Semicorchea? \_\_\_\_\_.
- 11.- ¿Qué figura precede a la Semifusa? \_\_\_\_\_. Esto significa que la Semifusa dura \_\_\_\_\_ de la Fusa.
- 12.- ¿Cuántas Semifusas necesitarás para completar una Fusa? \_\_\_\_\_.
- 13.- Si para completar una Redonda necesitamos \_\_\_\_ Blancas ¿Cuántas Negras necesitaremos para completar una Redonda? \_\_\_\_\_.
- 14.- Si para completar una Redonda necesitamos \_\_\_\_ Blancas o \_\_\_\_ Negras. ¿Cuántas Corcheas necesitaremos para completar una Redonda? \_\_\_\_\_.
- 15.- Si para completar una Redonda necesitamos \_\_\_\_ Blancas o \_\_\_\_ Negras o \_\_\_\_ Corcheas. ¿Cuántas Semicorcheas necesitaremos para completar una Redonda? \_\_\_\_\_.
- 16.- Si para completar una Redonda necesitamos \_\_\_\_ Blancas o \_\_\_\_ Negras o \_\_\_\_ Corcheas o \_\_\_\_ Semicorcheas. ¿Cuántas Fusas necesitaremos para completar una Redonda? \_\_\_\_\_.
- 17.- Si para completar una Redonda necesitamos \_\_\_\_ Blancas o \_\_\_\_ Negras o \_\_\_\_ Corcheas o \_\_\_\_ Semicorcheas o \_\_\_\_ Fusas. ¿Cuántas Semifusas necesitaremos para completar una Redonda? \_\_\_\_\_.

Cuadro de las figuras

Completa el siguiente cuadro indicando, debajo de cada figura, cuántas de ella se necesitan para igualar las de la primera columna.

Cuadro de los silencios

Completa el siguiente cuadro indicando, debajo de cada silencio, cuántos de él se necesitan para igualar los de la primera columna.