


Ejercicios de evaluación del primer periodo 2° "B"
J.N. Juventino Rosas, Santiago Papasquiaro, Dgo.

Pensamiento matemático

Nombre del alumno: _____

1. En esta imagen selecciona los números que aparecen.

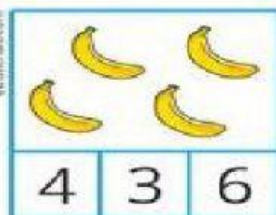
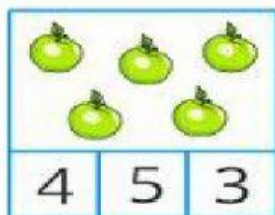
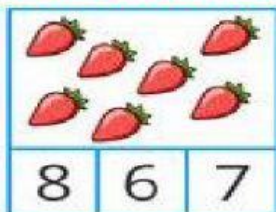
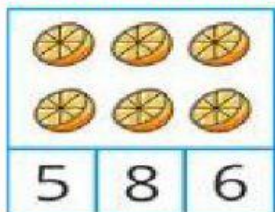


2. ¿Cuántos patos tiene mamá pata?



- a) 5 patos
b) 1 pato
c) 3 patos
d) 2 patos

3. Selecciona el numero correcto en cada colección




5. Ordena las actividades que haces durante el día
arrastrándolas al número que corresponda.

1	2	3	4
---	---	---	---



4. Observa la siguiente lamina y contesta las preguntas
arrastrando la respuesta correcta.



¿Cuántas jirafas hay?

¿Cuántas cebras hay?

¿Cuántos Suricatos hay?

4

3

5