

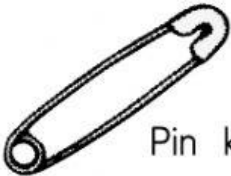



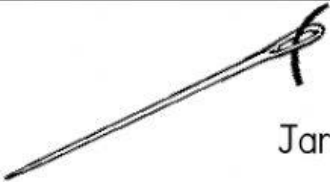
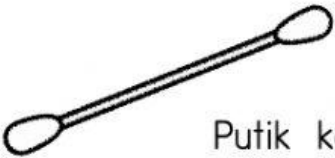


## KONDUKTOR DAN PENEBAT

Pilih jawapan yang betul.

No.	Objek	Mentol menyala atau tidak	Konduktor / Penebat
1.	 Penyedut minuman	<div>Menyala</div> <div>Tidak menyala</div>	<div>Konduktor</div> <div>Penebat</div>
2.	 Kunci	<div>Menyala</div> <div>Tidak menyala</div>	<div>Konduktor</div> <div>Penebat</div>
3.	 Pin keselamatan	<div>Menyala</div> <div>Tidak menyala</div>	<div>Konduktor</div> <div>Penebat</div>
4.	 Botol kaca	<div>Menyala</div> <div>Tidak menyala</div>	<div>Konduktor</div> <div>Penebat</div>
5.	 Skrui	<div>Menyala</div> <div>Tidak menyala</div>	<div>Konduktor</div> <div>Penebat</div>
6.	 Belon	<div>Menyala</div> <div>Tidak menyala</div>	<div>Konduktor</div> <div>Penebat</div>
7.	 Jarum	<div>Menyala</div> <div>Tidak menyala</div>	<div>Konduktor</div> <div>Penebat</div>
8.	 Putik kapas	<div>Menyala</div> <div>Tidak menyala</div>	<div>Konduktor</div> <div>Penebat</div>