

Penilaian Harian

Kelas : 4

Nama Siswa :

Tema :

No Urut :

Soal Pilihan Ganda

1. Berikut ini keragaman di Indonesia yang harus kita banggakan, *kecuali*
 - a. suku
 - b. ras
 - c. bahasa
 - d. masalah
2. Yang dibutuhkan agar masyarakat yang beragam suku bangsanya tetap hidup rukun adalah
 - a. kerja sama dan saling memusuhi
 - b. kerja sama dan saling menghargai
 - c. kerja sama dan saling berkhianat
 - d. kerja sama dan saling memerangi
3. Kata *tuang* dan *mangan* memiliki padanan kata yang sama yaitu makan. *Tuang* merupakan kata dalam bahasa
 - a. Jawa
 - b. Melayu
 - c. Sunda
 - d. Dani
4. Tengil mengejek orang dari suku lain. Perilaku tersebut dapat menimbulkan
 - a. perdamaian
 - b. ketenangan
 - c. kerja sama
 - d. perselisihan

Teks berikut digunakan untuk menjawab 3 soal di bawahnya.
Perhatikan teks berikut!

Bahasa Daerah di Indonesia

Indonesia merupakan negara kedua yang memiliki jumlah bahasa terbanyak di dunia. Jumlah bahasa daerah yang dimiliki Indonesia yaitu 742 bahasa. Persebaran bahasa di Indonesia berbanding terbalik dengan jumlah penduduknya. Pulau Jawa dengan jumlah penduduk terbanyak, yaitu 123 juta orang, hanya memiliki sekitar 20 bahasa daerah. Sementara itu, Papua dengan jumlah penduduk sekitar 2 juta orang justru memiliki 271 bahasa daerah.





5. Ide pokok paragraf tersebut adalah
 - a. jumlah penduduk dan bahasa daerah di Papua
 - b. persebaran bahasa di Indonesia
 - c. perbandingan jumlah penduduk dan bahasa daerah
 - d. Indonesia sebagai negara kedua yang memiliki jumlah bahasa terbanyak di dunia
6. Informasi yang terdapat pada teks tersebut adalah
 - a. Indonesia memiliki 742 bahasa daerah
 - b. jumlah penduduk dan persebaran bahasa daerah berbanding lurus
 - c. Pulau Jawa memiliki persebaran bahasa daerah terbanyak
 - d. Pulau Papua memiliki jumlah penduduk dan persebaran bahasa daerah terbanyak
7. Sesuai kamus, arti kata *bahasa* yang terdapat pada teks tersebut adalah
 - a. satu kesatuan bunyi yang memiliki makna dan biasanya digunakan untuk melafalkan sesuatu
 - b. alat komunikasi verbal yang digunakan masyarakat untuk berhubungan dan bekerja sama
 - c. sistem lambang bunyi yang arbitrer, yang digunakan oleh anggota suatu masyarakat untuk bekerja sama, berinteraksi, dan mengidentifikasikan diri
 - d. cara pengucapan bunyi yang teratur dan memiliki makna dengan tujuan untuk berkomunikasi antarmasyarakat
8. Saat menuliskan informasi, kita harus memperhatikan hal-hal berikut, *kecuali*
 - a. menuliskan informasi secara lengkap
 - b. menyampaikan informasi secara runtut
 - c. menggunakan ejaan yang benar
 - d. menyebutkan fakta-fakta disertai opini pribadi
9. Perhatikan gambar berikut!



Gambar tersebut merupakan contoh dari gaya

- a. listrik
- b. gravitasi
- c. magnet
- d. gesek

10. Salah satu contoh gaya listrik ditunjukkan oleh gambar

- a. 
- b. 
- c. 
- d. 

11. Delman dapat bergerak karena adanya ... dari kuda.

- a. dorongan
- b. tarikan
- c. sentuhan
- d. gesekan

12. Perhatikan

gambar

berikut!



Gambar tersebut menunjukkan bahwa gaya dapat

- a. mengubah bentuk benda
- b. mengubah posisi benda
- c. mengubah kecepatan benda
- d. mengubah benda bergerak menjadi diam

13. Pulau terluas di Indonesia adalah pulau

- a. Sumatra
- b. Jawa
- c. Kalimantan
- d. Papua

14. Berikut ini merupakan bahasa yang berasal dari Provinsi Aceh adalah

- a. Tamiang
- b. Serawai
- c. Badui
- d. Osing

15. *Tapajoh* adalah padanan kata makan dalam bahasa

- a. Sunda
- b. Betawi
- c. Aceh
- d. Banjar





16. Suku berikut ini yang berasal dari Provinsi Bangka Belitung adalah

- a. Batak
- b. Minangkabau
- c. Melayu
- d. Komering

17. Berikut bagian-bagian dari not balok, *kecuali*

- a. tangkai not
- b. bendera not
- c. kepala not
- d. badan not




18. Lambang not seperenambelas yang benar adalah

- a. 
- b. 
- c. 
- d. 

19. Lagu berjudul "Apuse" dinyanyikan dengan tempo

- a. lambat
- b. sedang
- c. sangat cepat
- d. pelan

20. Not balok seperempat ditunjukkan oleh

- a. 
- b. 
- c. 
- d. 