







Αν  = 27,  = 6,  = 7, τότε βρίσκω ποιο μοτίβο έχει τη μεγαλύτερη αριθμητική αξία.

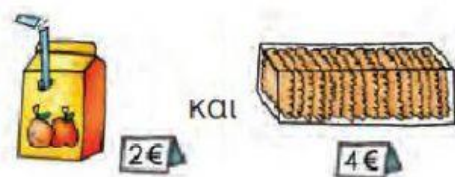
-  Υπολογίζω: + + + + + =
-  Υπολογίζω: + + + + + =
-  Υπολογίζω: + + + =

Το λεωφορείο έχει 30 επιβάτες.



Μετά την τρίτη στάση, πόσοι επιβάτες θα είναι μέσα στο λεωφορείο;

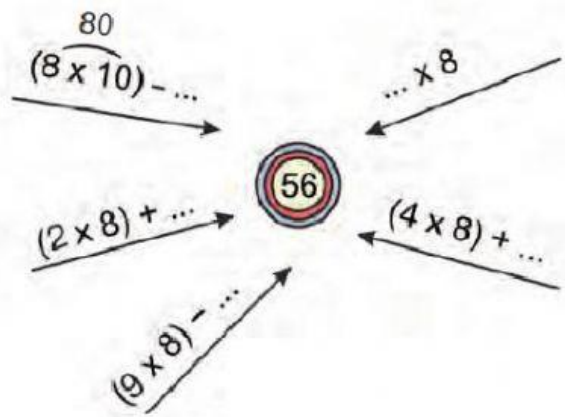
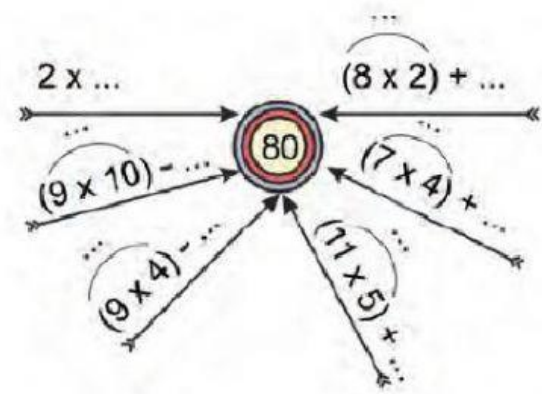
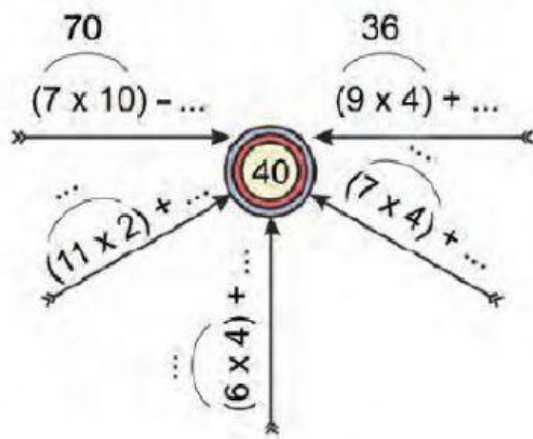
Όλα τα παιδιά στην παρέα αγόρασαν: ένα
Τα παιδιά ήταν 8. Πόσα χρήματα πλήρωσαν;



Υπολογίζω με αριθμούς:

$$\begin{array}{r}
 \square \\
 \square \\
 \hline
 \square
 \end{array}
 \times
 \begin{array}{r}
 \square \\
 \square \\
 \hline
 \square
 \end{array}
 +
 \begin{array}{r}
 \square \\
 \square \\
 \hline
 \square
 \end{array}$$

Συμπληρώνω τους αριθμούς που λείπουν.



Ένα χταπόδι έχει 8 πόδια. Πόσα πόδια έχουν:

12 χταπόδια;

6 χταπόδια;

• Μια θαλάσσια χελώνα έχει 4 πόδια. Πόσα πόδια έχουν:

12 θαλάσσιες χελώνες;

6 θαλάσσιες χελώνες;.....